



IranArze.ir

@iranarze

@iranarze



مجری آزمون  
سازمان سنجش



زمان برگزاری آزمون  
۲۱ شهریور ۱۳۹۹

اصل سوالات آزمون استخدامی

## تامین اجتماعی ۱۳۹۹

✓ اصل سوالات آزمون استخدامی تامین اجتماعی برگزار شده در ۲۱ شهریور ۱۳۹۹

✓ نسخه رایگان شامل ۱۱۲ سوال به همراه کلید سوالات در انتهای جزوه

✓ مجری آزمون : سازمان سنجش



## لینک های مفید آزمون استخدامی تامین اجتماعی

خرید سوالات تامین اجتماعی	دانلود رایگان سوالات تامین اجتماعی با پاسخنامه
خرید سوالات استخدامی ۱۰ سال اخیر	خرید جزوه عمومی
خرید سوالات مصاحبه	خرید جزوه مصاحبه
خرید سوالات آشنایی با سازمان تامین اجتماعی	منابع آزمون
اخبار آزمون	شبکه های اجتماعی ایران عرضه (فایل های رایگان + تخفیفات هفتگی + اخبار)
(برای مشاهده هر بخش روی آن بزنید  )	

## فهرست مطالب

❖ فصل اول: سوالات تایپ شده آزمون استخدامی حیطه عمومی تامین اجتماعی ۲۱ شهریور ۱۳۹۹

سری ۲۰۰F - صفحه ۴ (۶۱ سوال)

ادبیات - معارف - دانش اجتماعی - شناخت تامین اجتماعی - اطلاعات عمومی - هوش

❖ فصل دوم: عکس سوالات حیطه عمومی تامین اجتماعی ۲۱ شهریور ۱۳۹۹ سری ۲۰۰F - صفحه

۱۴

❖ فصل سوم: کلید سوالات حیطه عمومی تامین اجتماعی ۲۱ شهریور ۱۳۹۹ سری ۲۰۰F - صفحه

۲۲

❖ فصل چهارم: سوالات تایپ شده آزمون استخدامی حیطه عمومی تامین اجتماعی ۲۱ شهریور

۱۳۹۹ سری ۲۰۰D - صفحه ۲۳ (۵۱ سوال)

فناوری اطلاعات - زبان - ادبیات - معارف - دانش اجتماعی - شناخت تامین اجتماعی - اطلاعات عمومی - هوش

❖ فصل پنجم: عکس سوالات حیطه عمومی تامین اجتماعی ۲۱ شهریور ۱۳۹۹ سری ۲۰۰D - صفحه

۳۱

❖ فصل ششم: کلید سوالات حیطه عمومی تامین اجتماعی ۲۱ شهریور ۱۳۹۹ سری ۲۰۰D - صفحه

۳۹

## ❖ فصل اول: سوالات تایپ شده آزمون استخدامی حیطه عمومی تامین اجتماعی

۲۱ شهریور ۱۳۹۹ سری ۲۰۰۴

## ◀ آئین نگارش زبان فارسی

## ۱- کدام عبارت، نیاز به ویرایش دارد؟

- (۱) نخستین ذکری که سزاوار است، سپاس خداوند یگانه است.
- (۲) لازمه همبستگی مردم جهان وحدت نظر است.
- (۳) همیشه احتمال سقوط صخره‌های بزرگ در جاده‌های کوهستانی وجود دارد.
- (۴) این شوق فراوان خاکی بر آن بود که وی با معنویت سازگاری داشت.

## ۲- کاربرد «را» در کدام عبارت، «غلط» است؟ (iranarze.ir)

- (۱) وی خراسان را به تصرف درآورد.
- (۲) کفشی که خریده بودی را پسندیدم.
- (۳) اموال مردم را با بیدادگری گرفت.
- (۴) دست بچه خردسالی را در دست داشت.

## ۳- نگارش کدام عبارت، ایراد دارد؟

- (۱) چون شاهنامه توسط فردوسی سروده شد، بزرگ‌ترین شاهکار ادبی ایران شد.
- (۲) دوست خوب کسی است که مانند آینه عیوب تو را به تو بنمایاند.
- (۳) باران‌های پراکنده به هوای بهاری لطافت خاص می‌بخشد و آن را دلپذیر می‌سازد.
- (۴) کسی در زندگی پیروز است که برای رسیدن به هدف، فرصت‌ها را از دست ندهد.

## ۴- کدام عبارت، دارای ایهام (کژتایی) است؟

- (۱) آن دانش‌آموز نمی‌دانست چه کند؛ زیرا او مثل دوستش به ورزش علاقه‌ای نداشت.
- (۲) برخلاف آن چه تصوّر می‌شود خط و نوشتار هیچ بخشی از بخش‌های اصلی و زبان و گفتار نیست.
- (۳) هرکسی مطلبی را عنوان کرد؛ اما دوستم همان‌طور ساکت مانده بود.
- (۴) رضا بلند شد و حله مسئله را با راهنمایی معلّم بر روی تخته سیاه نوشت.

## ۵- نگارش کدام عبارت، «غلط» است؟

- (۱) نویسنده کتاب، اثر خود را با سرآغاز مناسبی آراست.
- (۲) قبل از فرارسیدن بهار همه درختان جوانه‌زده بودند.
- (۳) بازرسان از بی آبی باغات میوه اظهار تأسف خوردند.

۴) بلندخوانی برای اصلاح نوشته‌ها، کمک مؤثری است.

۶- در متن زیر، چند «غلط نگارشی» به چشم می‌خورد؟

«چون برادرم شامل قانون معافیت شده بود، دیگر من نمی‌توانستم معاف شوم و آماده خدمت سربازی شدم. برای آن که خدمتم به تأخیر نیافتد، فوراً خود را به نیروی انتظامی معرفی کردم و به قول معروف دفترچه خدمت را گرفتم.»

۱) سه ۲) چهار ۳) یک ۴) دو

۷- از میان جمله‌های زیر، کدام جمله نیاز به ویرایش دارد؟

الف) بی‌اطلاعی مجرم از مفاد قانون، موجب تبرئه وی نمی‌شود.

ب) تربیت انسانی از گهواره شروع می‌شود و برای اغلب مردم تا روز مرگ ادامه می‌یابد.

ج) در کلاس درس بود که از جای بشدم و با عصبانیت تمام از کلاس خارج شدم.

د) این خانم مدیر محترم چنان مقتدرانه کار می‌کند که گویی اصلاً مدیر زاده شده است.

۱) «ب» ۲) «الف» ۳) «د» ۴) «ج»

۸- نگارش کدام جمله، «غلط» است؟

۱) نصیحت شما را گوش کرده، مورد توجه قرار می‌دهم.

۲) من به اندرز شما توجه و آن را به کار خواهم بست.

۳) از خیرخواهی‌های شما نهایت امتنان را دارم.

۴) با نهایت دقت به راهنمایی‌های شما گوش خواهم داد.

۹- توضیح مقابل همه نشانه‌ها درست است، به جز .....

۱) اگر بخواهیم چیزی به اصل کلام بیفزاییم. (قلاب / !)

۲) میان دو جمله مستقل که پیوند معنایی دارند. (نقطه ویرگول / ؛)

۳) برای بیان استهزا و تمسخر (نشانه عاطفی / !)

۴) به جای واو عطف میان واژه‌های هم پایه. (ویرگول / ،)

۱۰- در عبارت زیر، به ترتیب، کدام نشانه‌های نگارشی باید به کار برده شود؟

«مولوی می‌فرماید آدمی مخفی است در زیر زبان»

۱) دو نقطه - گیومه - ویرگول ۲) دو نقطه - گیومه - نقطه

۳) گیومه - نقطه - ویرگول ۴) گیومه - نقطه - گیومه

## معارف اسلامی

۱۱- انسان در کدام صورت، به بزرگ‌ترین سعادت نایل می‌شود؟ (iranarze)

۱) خودشناسی، شناخت پیامبران و تعدیل امیال نفسانی

۲) خداشناسی، شناخت پیامبران و سرکوبی غرایز نفسانی

۳) خودشناسی، کشف فطرت و تعدیل امیال نفسانی

۴) خودشناسی، کشف فطرت و سرکوبی غرایز نفسانی

۱۲- از {آیة شریفه فَأَقِمْ وَجْهَكَ لِلدِّينِ حَنِيفًا...} کدام مفهوم دریافت می‌شود؟

۱) خالص بودن دین الهی ۲) استوار بودن دین الهی

۳) فطری بودن خداپرستی ۴) فطری بودن خداشناسی

۱۳- آیة شریفه {لَوْ كَانَ فِيهِمَا آلِهَةٌ إِلَّا اللَّهُ لَفَسَدَتَا}، به کدام موضوع اشاره دارد؟

۱) هنگامی که به موجودات این عالم می‌نگریم، سازماندهی حساب‌شده را حساس می‌کنیم.

۲) جهان مجموعه‌ای هماهنگ است که از سرحکمت، علم و تدبیر آراسته شده است.

۳) با پیشرفت علوم تجربی و کشفیات رموز عالم هستی، برهان نظم جلوه بیشتری پیدا کرده است.

۴) پدیده‌های منظم و طراحی و برنامه‌ریزی شده دقیق، همواره به سوی غایتی در حرکت هستند.

۱۴- کدام اراده الهی، از رابطه خاص خدا با مخلوقات سرچشمه می‌گیرد؟

۱) تکوینی و چون خداوند امری را اراده کند، بالضرورة تحقق می‌یابد.

۲) تشریعی و چون خداوند امری را اراده کند، بالضرورة تحقق می‌یابد.

۳) تشریعی و امکان تخلف اراده از مراد وجود دارد.

۴) تکوینی و امکان تخلف اراده از مراد وجود دارد.

۱۵- آیات شریفه {فَإِنَّ مَعَ الْعُسْرِ يُسْرًا، إِنَّ مَعَ الْعُسْرِ يُسْرًا}، به کدام راز و فواید شرور در جهان اشاره دارد؟

۱) خداوند بندگان را با مصیبت می‌آزماید تا مؤمنان بازشناخته شوند.

۲) سختی و مشکلات برای تکامل روحی و معنوی و علمی انسان سودمند است.

۳) مشکلات برای بندگان خاص خدا، لطفی است که به صورت سختی جلوه می‌کند.

۴) سختی و مشکلات به عنوان عاملی برای بیداری از خواب غفلت یاد می‌شود.

۱۶- آیات شریفه {لَمْ يَلِدْ وَلَمْ يُولَدْ} و {الْحَمْدُ لِلَّهِ رَبِّ الْعَالَمِينَ} به ترتیب، بیانگر کدام مرتبه از مراتب توحید است؟

۱) عبادی - عبادی ۲) عبادی - ذاتی ۳) ذاتی - ذاتی ۴) ذاتی - عبادی

۱۷- آیه شریفه {إِنَّ الصَّلَاةَ كَانَتْ عَلَى الْمُؤْمِنِينَ كِتَابًا مَوْقُوتًا} به کدام یک از اسرار نماز اشاره دارد؟

۱) مایه پرهیزگاری ۲) مایه پاکیزگی

۳) مایه انضباط و وقت‌شناسی ۴) مایه شادابی و نشاط

۱۸- آیه شریفه ام { نَجْعَلُ الَّذِينَ آمَنُوا وَعَمِلُوا الصَّالِحَاتِ كَالْمُفْسِدِينَ فِي الْأَرْضِ أَمْ نَجْعَلُ الْمُتَّقِينَ كَالْفُجَّارِ } به کدام موضوع

معاد اشاره دارد؟



(۱) ضرورت معاد در پرتو عدل الهی (۲) امکان معاد در پرتو عدل الهی

(۳) ضرورت معاد در پرتو حکمت الهی (۴) امکان معاد در پرتو حکمت الهی

۱۹- چرا دوزخیان نباید دیگران را ملاحه کنند و تنها خودشان، شایسته ملامت هستند؟

(۱) در دنیا به اندازه کافی به آن‌ها عمر داده شده تا هرکس می‌خواست به راه راست درآید.

(۲) پیامبران برای آنان دلایل روشنی آوردند تا هدایت شوند، اما آن‌ها این هدایت را نپذیرفتند.

(۳) اگر به دنیا بازگردند، همان راه گذشته را در پیش می‌گیرند و خودشان مقصرند.

(۴) شیطان فقط آن‌ها را به گناه دعوت کرده و آنکه پذیرفته است، خودشان بودند.

(۴) شیطان فقط آن‌ها را به گناه دعوت کرده و آنکه پذیرفته است، خودشان بودند.

۲۰- در قرآن کریم، حضرت عیسی (ع) در حالی که هنوز در گهواره بود، از چه چیزی سخن گفت؟

(۱) پروردگار مرا برپادارنده نماز قرار داده است.

(۲) خدا مرا سفارش به نماز و زکات کرده است.

(۳) نماز یک وظیفه بوده و هدف ساختن کعبه، همین بوده است.

(۴) خدا را پرستش کنید و به یاد او، نماز را برپا دارید.

## ◀ دانش اجتماعی و حقوق اساسی

۲۱- در منابع فقهی اسلام، تأمین اجتماعی متکی به کدام اصول است؟ ایران عرضه

(۱) تأمین نیازهای مادی - منتفع بودن از مزایای اقتصادی

(۲) تأمین نیازهای معنوی - رفاه همگانی

(۳) مسئولیت متقابل اعضای جامعه - منتفع بودن از بیت‌المال

(۴) مسئولیت متقابل جامعه و حاکمان - رفاه و تأمین سلامت

۲۲- خواجه نصیرالدین طوسی، اساس تشکیل جوامع بشری را مبتنی بر کدام اصل می‌دانست؟

(۱) ثروت (۲) قدرت (۳) تعاون (۴) استخدام

۲۳- کدام مورد، از راهکارهای کاهش نابرابری‌های اجتماعی نیست؟

(۱) پرداخت یارانه (۲) چتر حمایتی بیمه‌های اجتماعی

(۳) حذف مالکیت خصوصی (۴) دریافت مالیات

۲۴- کدام مورد، کوچک‌ترین واحد جمعیتی در جامعه آریایی بود؟

(۱) زنتو (۲) نمان (دمان) (۳) دهیو (۴) ویس

۲۵- تعداد «تیره‌ها» در اجتماع و جمعیت، کدام مجموعه را می‌سازد؟

(۱) ایل (۲) دودمان (۳) قوم (۴) طایفه

۲۶- در قانون اساسی، وظیفه دولت به تأمین زمینه‌های تحقق کدام یک از حقوق افراد با رعایت اولویت برای آن‌ها که نیازمندترند، مقید شده است؟

- (۱) برخورداری از مسکن متناسب با نیاز (۲) ایجاد نیمه خاص بیوه‌ها و زنان سالخورده  
(۳) تأمین وسایل آموزش و پرورش رایگان (۴) برخورداری از تأمین اجتماعی

۲۷- در قانون اساسی، عبارت «انفال» اشاره به کدام یک از موارد زیر دارد؟

- (۱) اموال مجهول‌المالک (۲) درآمدهای ملی (۳) مالکیت مشروع (۴) مالکیت شخصی

۲۸- در مواردی که طرح یا لایحه‌ای فوری در دستور کار مجلس قرار گیرد، حضور و اظهارنظر کدام یک از اشخاص زیر، الزامی است؟

- (۱) حقوقدانان شورای نگهبان (۲) اعضای شورای نگهبان  
(۳) رئیس جمهور یا وزیر مربوط (۴) وزیر دادگستری یا معاون پارلمانی رئیس جمهور

۲۹- به ترتیب، تعداد نمایندگان و تعداد کمیسیون‌های داخلی مجلس، از کدام طریق تعیین می‌شوند؟

- (۱) قانون - مصوبه هیئت رئیسه (۲) قانون اساسی - آیین‌نامه داخلی  
(۳) قانون - آیین‌نامه داخل (۴) قانون اساسی - قانون

۳۰- در قانون اساسی، به ایجاد زمینه‌های مساعد برای احیای حقوق مادی و معنوی کدام یک از موارد زیر، به عنوان یکی از وظایف دولت اشاره شده است؟ {ایران عرضه}

- (۱) احزاب و انجمن‌های سیاسی (۲) زنان  
(۳) روستائینان و کارگران (۴) اقلیت‌های قومی و نژادی

## ◀ شناخت تأمین اجتماعی

۳۱- «مشاغل آزاد» و «کارگران مزدی»، به ترتیب، دارای کدام نوع بیمه تأمین اجتماعی هستند؟

- (۱) اختیاری - اجباری (۲) اجباری - اختیاری  
(۳) اختیاری - اختیاری (۴) اجباری - اجباری

۳۲- چند نفر از اعضای هیئت‌امانی سازمان با پیشنهاد وزیر تعاون، کار و رفاه اجتماعی و با تصویب شورای عالی رفاه و تأمین اجتماعی انتخاب می‌شوند؟

- (۱) ۴ (۲) ۳ (۳) ۹ (۴) ۶

۳۳- نصب و عزل هیئت نظارت و هیئت مدیره سازمان تأمین اجتماعی، به ترتیب، بر عهده کدام مرجع است؟

- (۱) هیئت مدیره - هیئت نظارت (۲) هیئت امنا - هیئت امنا  
(۳) مدیر عامل - مدیر عامل (۴) هیئت مدیره - هیئت امنا

۳۴- تفریغ بودجه سال قبل به همراه ارزیابی عملکرد سازمان، تا چه زمانی و باید توسط کدام مرجع به هیئت امنا ارائه شود؟



(۲) اول خرداد - مدیر عامل

(۱) اول خرداد - هیئت مدیره

(۴) پایان خرداد - مدیر عامل

(۳) پایان خرداد - هیئت مدیره

۳۵- تدوین برنامه عملیاتی با رعایت اصول بهره‌وری جهت تحصیل اهداف راهبردی و خط مشی به صورت سالانه و پنج ساله، از وظایف کدام رکن سازمان تأمین اجتماعی است؟

(۱) هیئت مدیره (۲) مدیر عامل (۳) هیئت امنا (۴) هیئت نظارت

۳۶- در سازمان تأمین اجتماعی، اعضای هیئت نظارت به ترتیب چند نفرند و برای چند سال انتخاب می‌شوند؟

(۱) چهار - سه (۲) سه - چهار (۳) پنج - سه (۴) پنج - چهار

۳۷- اداره کل برنامه و بودجه، زیرمجموعه کدام یک از معاونت‌های سازمان تأمین اجتماعی است؟

(۱) اقتصادی و سرمایه‌گذاری (۲) توسعه مدیریت و منابع انسانی

(۳) بیمه‌ای (۴) برنامه‌ریزی، مالی و پشتیبانی

۳۸- اداره کل ارزیابی و تعالی خدمات بالینی، زیرمجموعه کدام معاونت سازمان تأمین اجتماعی است؟

(۱) توسعه مدیریت و منابع انسانی (۲) فرهنگی، اجتماعی و امور استان‌ها

(۳) بیمه‌ای (۴) درمان

۳۹- «مزایای نقدی، غیرنقدی و عیدی مستمری‌بگیران» و «غرامت دستمزد ایام بیکاری»، به ترتیب، جزو کدام نوع تعهدات

سازمان تأمین اجتماعی است؟

(۱) بلندمدت - کوتاه‌مدت (۲) کوتاه‌مدت - کوتاه‌مدت

(۳) کوتاه‌مدت - بلندمدت (۴) بلندمدت - بلندمدت

۴۰- صدور، تمدید، تجدید و تأمین اعتبار دفترچه‌های درمانی، از وظایف کدام واحد است؟ (تهیه شده توسط ایران عرضه)

(۱) امور بیمه‌شدگان (۲) اجرائیات

(۳) نام‌نویسی و حساب‌های انفرادی (۴) مستمری‌ها

۴۱- ارائه کمک‌هایی از قبیل غرامت نقص عضو مقطوع و پروتز به بیمه‌شدگان، جزو وظایف کدام واحد است؟

(۱) مستمری‌ها (۲) امور بیمه‌شدگان

(۳) امور اداری، پشتیبانی و رفاه (۴) نام‌نویسی و حساب‌های انفرادی

۴۲- فعالیت‌های مربوط به کلینیک‌های طب کار و امور کمیسیون‌های پزشکی بدوی، به ترتیب، زیر نظر کدام بخش درمان

هستند؟

(۱) غیرمستقیم - مستقیم (۲) غیرمستقیم - غیرمستقیم

(۳) مستقیم - غیرمستقیم (۴) مستقیم - مستقیم

۴۳- چهار بخش اصلی بیمارستان عمومی کدام‌اند؟

۱) ارتوپدی - اورولوژی - جراحی عمومی - قلب

۲) چشم - گوش و حلق و بینی - داخلی - اطفال

۳) داخلی - اطفال - زنان و زایمان - جراحی عمومی

۴) داخلی - اطفال - ارتوپدی - چشم

۴۴- اداره کل ارزیابی و پایش عملکرد، زیرمجموعه کدام معاونت سازمان تأمین اجتماعی است؟

۱) توسعه مدیریت و منابع انسانی ۲) درمان

۳) برنامه‌ریزی، مالی و پشتیبانی ۴) بیمه‌ای

۴۵- تعداد مستمری‌بگیران و بیمه‌شدگان اصلی سازمان تأمین اجتماعی، به ترتیب، چند میلیون نفرند؟

۱) ۳ و ۱۳ ۲) ۲ و ۱۵ ۳) ۳ و ۴۰ ۴) ۱۳ و ۴۰

## اطلاعات عمومی

۴۶- آبشار شاهان دشت در مجاورت قلعه بهمن (فرشته)، از مناظر طبیعی کدام استان است؟

۱) کردستان ۲) لرستان ۳) مازندران ۴) گیلان

۴۷- قلعه بابک (جمهور)، از جاذبه‌های گردشگری کدام استان است؟

۱) قزوین ۲) زنجان ۳) کرمانشاه ۴) آذربایجان شرقی

۴۸- در دوره کدام نخست‌وزیر، لایحه قانونی بیمه‌های اجتماعی کارگران برای اولین بار به تصویب رسید؟

۱) عبدالحسین هژبر ۲) محمد مصدق ۳) احمد قوام ۴) احمد متین دفتری

۴۹- پس از پیروزی انقلاب اسلامی، با تصویب کدام نهاد، سازمان تأمین اجتماعی مجدداً احیا شد؟

۱) شورای انقلاب ۲) هیئت وزیران ۳) وزارت بهداری ۴) نهاد نخست‌وزیری

۵۰- کدام عملیات جنگ تحمیلی، منجر به تصرف جزیره مجنون توسط نیروهای ایران شد؟ (ایران عرضه)

۱) نصر ۲) رمضان ۳) خیبر ۴) بدر

۵۱- از اقدامات رژیم پهلوی برای مقابله با اعتصاب کارکنان صنعت نفت در سال ۵۷ که با حمایت امام خمینی (ره) از این

اعتصاب‌ها همراه بود، کدام مورد است؟

۱) دعوت از مهندسين و کارگران خارجی ۲) دعوت از بازنشستگان و به‌کارگیری نظامیان

۳) اخراج رئیس وقت پالایشگاه آبادان ۴) اخراج گسترده کارکنان صنعت نفت

۵۲- در کدام اثر زیر، طنز ظریف عبیدزاکانی نسبت به فساد ایلخانان مغول، انعکاس یافته است؟

۱) تجارب‌الامم ۲) رساله دلگشا ۳) اخلاق ناصری ۴) اخلاق‌الاشراف

۵۳- کدام مورد به اختصار، انجمن بین‌المللی تأمین اجتماعی است؟ (تنظیم توسط فروشگاه ایران عرضه)

۱) ایوا (IWA) ۲) اصکابا (ITAIR) ۳) ایسا (ISSA) ۴) ایلو (ILO)

۵۴- کدام مورد، جزو شرکت، مؤسسه و نهاد تابعه سازمان تأمین اجتماعی است؟

(۱) شرکت سرمایه‌گذاری خانه‌سازی ایران (۲) نهاد کتابخانه‌های عمومی

(۳) صندوق کارآفرینی امید (۴) بانک توسعه تعاون

۵۵- کدام کشور، میزبان مسابقات جهانی کارگری در سال ۲۰۱۹ بوده است؟

(۱) انگلستان (۲) اسپانیا (۳) امریکا (۴) ایتالیا

## هوش و توانمندی های عمومی

راهنمایی: در این بخش از آزمون، یک متن داده شده است. این متن را به دقت بخوانید و پاسخ سؤال‌هایی را که در زیر آن آمده است، با توجه به آنچه می‌توان از متن استنتاج یا استنباط کرد، انتخاب کنید و در پاسخنامه علامت بزنید.

سیاست اجتماعی گرچه از جنبه‌های مختلف با رفاه اجتماعی همسو است، به نوعی که گاه مترادف یکدیگر به کار می‌روند، اما از نظر نوع رویکرد به مسئله و نیز نحوه کارکرد، با رفاه اجتماعی مرزبندی دارد. سیاست اجتماعی از یک سو معطوف به تدبیر و اجراست و به نوعی ابزار پیوند برنامه‌های مختلف اقتصادی، اجتماعی و سیاسی محسوب می‌شود و از سوی دیگر، به عنوان پوششی عام برای برنامه‌های مختلف دولت در عرصه‌های گوناگون به شمار می‌رود.

عده‌ای آن را مداخله عامدانه‌ای می‌دانند که دولت برای تحصیل اهداف رفاهی با توزیع مجدد منابع در میان شهروندان انجام می‌دهد. بنابراین تعریف، سیاست اجتماعی از طریق مساوات و عدم تبعیض، حفاظت از افراد آسیب‌پذیر و برنامه‌ریزی مدبرانه زندگی پیگیری می‌شود.

با توجه به تعریف «میجلی» علم سیاست اجتماعی بر سه زمینه متمرکز است: الف) ساختار و ترکیب مفهوم رفاه، ب) توضیح خاستگاه و عملکرد مسائل در اجرای برنامه‌های رفاه اجتماعی و ج) شکل‌دهی و رده‌بندی نظریه‌ها. «تونی فیتزپتریک» نیز در کتاب نظریه رفاه، ضمن آنکه تأکید می‌کند که سیاست اجتماعی یک رشته علمی و دانشگاهی است، اما مرزبندی محسوسی نیز در حیطه کارکردی آن قائل است و معتقد است که تأکید آگاهانه بر تحول اجتماعی، مضمون اصلی سیاست اجتماعی را تشکیل می‌دهد و از سیاست اجتماعی به عنوان روندی نام می‌برد که از طریق آن، رفاه یا بهزیستی جامعه به حداکثر می‌رسد، ضمن آنکه حیطه عملکردی آن را محدود به تولید و توزیع کالاهای عمومی می‌داند. از دید «فیتزپتریک»، سیاست اجتماعی به نوعی همزاد ایجاد حق رأی و نگاه به دموکراسی نیز به شمار می‌رود. وقتی مشارکت در تعیین قدرت به عنوان حق شهروندی تعریف شد و عموم جامعه حق اظهارنظر پیدا کردند، دولت‌ها نیز برای کسب رأی و جلب توجه آرای عمومی، سیاست اجتماعی را در کنار سیاست‌های دیگر اقتصادی، سیاسی و دفاعی قرار دادند و از این رو، روند دموکراسی آنان را مجبور به ارائه آن کرد. هنگامی که در دهه ۱۹۷۰ میلادی، با افزایش نرخ بیکاری در سراسر اروپا، معضل بیکاری و به تبع آن مسئله اشتغال به عنوان مشکل اساسی تلقی شد، این مسئله موجب نگرانی سیاستمداران، اقتصاددانان و سایر بازیگران عرصه سیاست شد و به نظام‌های رفاهی را به طور اخص و سیاستگذاری‌های اجتماعی آنان را به انحای مختلف تحت‌تأثیر قرار داد. اما هر کشور براساس رهیافت‌های مخصوص به خود و به نحو متفاوت از دیگران، به مقابله با این مسئله پرداخت. کشورهایی نظیر ایتالیا،

پرتغال، اسپانیا، یونان، مزایای محدودی در اختیار بیکاران قرار دادند، اما کشورهایی مانند ایرلند، هلند، آلمان، دانمارک و سوئد سیاست‌های اشتغال‌محور گسترده اجرا کردند. مسئله اصلی این بود که هر رژیم رفاهی، براساس همان ویژگی‌های خود، سیاست خاصی را نیز در برخورد با بیکاری دنبال کرده است. یکی از دلایل این تفاوت آن بود که چون این رژیم‌های رفاهی با الگوهای زندگی خانوادگی و همبستگی خانوادگی در تعادل هستند یا تحت‌تأثیر الگوهای مختلف زندگی خانوادگی می‌باشند، نمی‌توانستند از یک الگو پیروی کنند و شیوه‌های زندگی خانواده‌ها بر سیاستگذاری اجتماعی مؤثر بودند.

۵۶- مقصود اصلی متن، کدام است؟

(۱) بررسی مفهومی معاصر در جایگاه تاریخی تکوین آن

(۲) بررسی تأثیر تفاوت جوامع بر جهت‌گیری‌های اجتماعی

(۳) تبیین یک پدیده اجتماعی

(۴) مقایسه دو رهیافت متفاوت در رفاه اجتماعی

۵۷- کدام مورد، به بهترین وجه، نقش پاراگراف ۲ در ارتباط با موضوع اصلی پاراگراف ۱ را توصیف می‌کند؟

(۱) با مقایسه دو نظریه مربوطه، اهمیت آن را برجسته می‌سازد.

(۲) با ارائه دو مثال مشخص، جایگاه علمی خاصی به آن می‌بخشد.

(۳) با استناد به منابع موثق، آن را طبقه‌بندی می‌کند.

(۴) آن را با توسل به برخی منابع مربوطه، تکمیل می‌کند.

۵۸- از نظر «فیتزپتریک»، کدام مورد، نظر دولت‌ها درباره شروع به اجرای سیاست اجتماعی را به بهترین وجه، توصیف می‌کند؟

(۱) بی‌طرفی عامدانه (۲) پذیرش ناخواسته (۳) سخت ولی شدنی (۴) تردید و تشکیک عمیق

۵۹- مقصود اصلی نویسنده از جمله زیر در پاراگراف ۳، کدام است؟

«کشورهایی نظیر ایتالیا، پرتغال، اسپانیا، یونان، مزایای محدودی در اختیار بیکاران قرار دادند، اما کشورهایی مانند ایرلند، هلند، آلمان، دانمارک و سوئد سیاست‌های اشتغال‌محور گسترده اجرا کردند.»

(۱) تأکید بر معضلی مشترک در کشورهایی به ظاهر متفاوت

(۲) مقایسه رهیافت‌های متفاوت در برخورد با مسئله بیکاری و اشتغال

(۳) تأیید جمله ماقبل در آن پاراگراف

(۴) اثبات فراگیری نوعی حرکت رفاه اجتماعی

راهنمایی: برای پاسخگویی به سؤال‌های ۶۰ تا ۶۲، لازم است موقعیتی را که در هر سؤال مطرح شده، مورد تجزیه و تحلیل قرار دهید و سپس گزینه‌ای را که فکر می‌کنید پاسخ مناسب‌تری برای آن سؤال است، انتخاب کنید. هر سؤال را با دقت

بخوانید و با توجه به واقعیت‌های مطرح شده در هر سؤال و نتایجی که بیان شده و بیان نشده ولی قابل استنتاج است، پاسخی را که صحیح‌تر به نظر می‌رسد، انتخاب و در پاسخنامه علامت بزنید.

۶۰- ناصر: به این نتیجه رسیده‌ایم که می‌توان استرس را با گوش دادن بهتر نیز کاهش داد. زمانی که میزان تمرکز خود در گوش دادن به دیگران را، به‌ویژه وقتی آن‌ها از مشکلاتشان می‌گویند، بیشتر می‌کنم، ارتباطاتم نیز به همان اندازه غنی‌تر و بهتر می‌شوند. شما هم در تمام شرایط چنین کنید. فرد مقابل به خوبی میزان توجه و گوش دادن شما را احساس می‌کند و به شما اعتماد می‌کند و این امر، احساس پیوستگی میان شما را زیاد می‌کند و تا حدی به‌طور ناخودآگاه رخ می‌دهد. زمانی که احساس خوب گوش داده شدن به دیگران القا می‌شود، پیوستگی احساسی میان افراد نیز سریع‌تر شکل می‌گیرد.

کدام مورد، در صورتی که صحیح فرض شود، به قوی‌ترین شکل، پیشنهاد ناصر را زیر سؤال می‌برد؟

(۱) برخی روان‌شناسان بر این باورند که گوش کردن به مشکلات دیگران، بر شنونده اثرات منفی نامحسوسی دارد.  
(۲) انسان‌ها وقتی حاضر می‌شوند با کسی مشکلات خود را در میان بگذارند که با وی، از قبل و ناخودآگاه، احساس راحتی و اعتماد دارند.

(۳) روش‌های مختلفی برای ایجاد ارتباط با دیگران و عمق بخشیدن به این ارتباطات وجود دارد.

(۴) کسانی که حاضرند درباره مشکلات خود با دیگران حرف بزنند، عموماً افرادی برون‌گرا هستند.

۶۱- وقتی کارهای زیادی برای انجام دادن دارید، این‌طور به نظر می‌رسد که بهترین گزینه، استفاده از روزهای تعطیل و آخر هفته‌هاست. اما این کار، فکر خوبی نیست. این فرایند در نهایت به سلامت شما آسیب می‌رساند. پس به خودتان مرخصی بدهید. ممکن است نتوانید دو روز تعطیل متوالی داشته باشید، اما باید سعی کنید حداقل یک روز در هفته کاملاً از کار دور باشید. وقتی ذهن شما درگیر کار نباشد، روح و جسمتان طراوت می‌یابد. حتی اگر لازم است که یک روز بیشتر از روزهای دیگر کار کنید، ارزشش را دارد که یک روز کامل کار کردن را کنار بگذارید. وقتی اول هفته به کار برمی‌گردید، احساس بهتری خواهید داشت و کیفیت کار شما هم بالاتر خواهد بود.

کدام مورد، فرض لازم برای پذیرش توصیه به عمل آمده در متن است؟ (iranarze)

(۱) بسیاری از کارکنان و مدیران می‌گویند که اضافه‌کاری در طول هفته را به کار در تعطیلات ترجیح می‌دهند.

(۲) وقتی تصمیم بگیرید یک روز مطلقاً کار نکنید، ذهن شما نیز اتوماتیک درگیر کار نخواهد بود.

(۳) وقتی افراد، روز یا روزهایی از هفته را به نیازهای شخصی خود اختصاص می‌دهند، به واقع باعث افزایش کارایی خود در طی زمان کاری می‌شوند.

(۴) محققین حوزه سلامت بر این باورند که کار کردن نیز به همان اندازه و استراحت و تفریح، برای سلامت روح و جسم ضروری

است



۲۱- کدام عبارت، نیاز به ویرایش دارد؟

- (۱) بخشی دیگری که سرآور است، سپس جداوند بگانه است.
- (۲) لازم به هتسگی مردم جهان وحدت نظر است.
- (۳) همیشه احتمال سقوط صجره های بزرگ در چاهه های گوهستانی وجود دارد.
- (۴) این شوق فراوان جنگو بر آن بود که وی با معنویت سازگاری داشت.

۲۲- کاربرد «را» در کدام عبارت، «غلط» است؟

- (۱) وی خروشان را به تصرف درآورد.
- (۲) کفشی که خریده بودی را پسندیدم.
- (۳) اموال مردم را با بداندگری گرفت.
- (۴) دست بچه خردسالی را در دست داشت.

۲۳- نگارش کدام عبارت، ایراد دارد؟

- (۱) چون شاهنامه توسط فردوسی سروده شد، بزرگترین شاهکار ادبی ایران شد.
- (۲) دوست خوب کسی است که مانند آینه عیوب تو را به تو بنماید.
- (۳) باران های پراکنده به هوای بهاری لطافت خاصی می بخشد و آن را شدیدتر می سازد.
- (۴) کسی در زندگی بیروز است که برای رسیدن به هدف، فرصت ها را از دست ندهد.

۲۴- کدام عبارت دارای ابهام (گژنایی) است؟

- (۱) آن دانش آموز نمی دانست چه کند زیرا او مثل دوستش به ورزش علاقه ای نداشت.
- (۲) برخلاف آن چه تصور می شود خط و نوشتار هیچ بخشی از بخش های اصلی زبان و گفتار نیست.
- (۳) هر کسی مظلومی را عنوان کرده اما دوستم همان طور ساکت مانده بود.
- (۴) رضا بلند شد و جل مسئله را با راهنمایی معلم بر روی تخته سیاه نوشت.

۲۵- نگارش کدام عبارت، «غلط» است؟

- (۱) نویسنده کتاب اثر خود را با سواغظ مناسبی آورده.
- (۲) قبل از قرارسیدن بهار همه درختان جوانه رده بودند.
- (۳) بازرسان از بی ای باغات میوه اظهار تأسف خوردند.
- (۴) بلندخوانی برای اصلاح نوشته ها، کمک مؤثری است.

۲۶- در متن زیر، چند «غلط نگارشی» به چشم می خورد؟

«چون برادر من شامل قانون معافیت شده بود، دیگر من نمی توانستم معاف شوم و آماده خدمت سربازی شدم. برای آن که خدمت به تأخیر نیافتد، فوراً خودم را به نیروی انتظامی معرفی کردم و به قول معروف دفترچه خدمت را گرفتم.»

- |        |          |
|--------|----------|
| (۱) سه | (۲) چهار |
| (۳) یک | (۴) دو   |

۲۷- کز میان جمله های زیر، کدام جمله نیاز به ویرایش دارد؟

- (الف) بی اطلاعی مجرم از مفاد قانون، موجب تبرئه وی نمی شود.
- (ب) کمیت انسانی از گهواره شروع می شود و برای اغلب مردم تا روز مرگ ادامه می یابد.
- (ج) در کلاس درس بود که از جای بشدم و با عصبانیت تمام از کلاس خارج شدم.
- (د) این خاله مدیر محترم چنان مقننرانه کار می کند که گویی اصلاً مدیر زاده شده است.

- |         |         |
|---------|---------|
| (۱) الف | (۲) الف |
| (۳) ج   | (۴) ج   |



۲۸- نگارش کدام جمله «غلط» است؟

- (۱) نصیحت شما را گوش کرده، مورد توجه قرار می‌دهد.
- (۲) من به تفرز شما توجه و آن را به کار خواهم بست.
- (۳) از خبر خواهی‌های شما نهایت اعتنا را دارم.
- (۴) با نهایت دقت به راهنمایی‌های شما گوش خواهم داد.

۲۹- توضیح مقابل همه نشانه‌ها درست است، به جز \_\_\_\_\_

- (۱) اگر بخواهیم چیزی به اصل کلام بفرایم (قلب / I)
- (۲) میان دو جمله مستقل که پیوند معنایی دارند (نقطه ویرگول / )
- (۳) برای بیان استعزا و تمسخر (شایله عاطفی / )
- (۴) جمله‌چین و او عطف میان واژه‌های هم‌پایه (ویرگول / )

۳۰- در عبارت زیر، به ترتیب کدام نشانه‌های نگارشی باید به کار برده شود؟

مولوی می‌فرماید آدمی مخفی است در روزیان

- (۱) نقطه - گیومه - ویرگول
- (۲) ویرگول - گیومه - نقطه
- (۳) گیومه - نقطه - ویرگول
- (۴) گیومه - نقطه - گیومه

### معارف اسلامی

۳۱- انسان در کدام صورت، به بزرگ‌ترین سعادت نایل می‌شود؟

- (۱) خودشناسی، شناخت پدافران و تبدیل امیال نفسانی
- (۲) خداشناسی، شناخت پدافران و سرکشی قرار نفسانی
- (۳) خودشناسی، کشف فطرت و تبدیل امیال نفسانی
- (۴) خداشناسی، کشف فطرت و سرکشی غریز نفسانی

۳۲- از آیه شریفه «فَافْهَمْ وَجْهَکَ لِلدِّینِ حَنِیْفاً» کدام مفهوم دریافت می‌شود؟

- (۱) خالص بودن دین الهی
- (۲) استوار بودن دین الهی
- (۳) فطری بودن خداپرستی
- (۴) فطری بودن خداشناسی

۳۳- آیه شریفه «لَوْ کَانَ فِیْهِمَا آلَهِةُ إِلَّا اللَّهُ لَفَسَدَتَا» به کدام موضوع اشاره دارد؟

- (۱) هنگامی که به موجودات این عالم می‌نگرید، سازماندهی حساب‌شده را احساس می‌کنیم.
- (۲) جهان مجموعه‌ای هماهنگ است که از سر حکمت، نظم و تدبیر (راسته شده است).
- (۳) با پیشرفت علوم تجربی و کشفیات رموز عالم هستی، برهان نظم جلوه بیشتری پیدا کرده است.
- (۴) پدیده‌های منظم و طراحی و برنامه‌ریزی شده دقیق، همواره به سوی عاقبتی در حرکت هستند.

۳۴- کدام اراده الهی، از رابطه خاص خدا با مخلوقات سرچشمه می‌گیرد؟

- (۱) نگوینی و چون خداوند امری را اراده کند، بالضرورة تحقق می‌یابد.
- (۲) تشریعی و چون خداوند امری را اراده کند، بالضرورة تحقق می‌یابد.
- (۳) تشریعی و امکان نخلف اراده از مراد وجود دارد.
- (۴) نگوینی و امکان نخلف اراده از مراد وجود دارد.

۳۵- آیات شریفه «فَإِنْ مَعَ الْقَسْرِ نَسْراً» «إِنْ مَعَ الْقَسْرِ نَسْراً» به کدام راز و فواید شروع در جهان اشاره دارد؟

- (۱) خداوند بندگانش را با مصیبت می‌آزماید تا مؤمنان بازآشناخته شوند.
- (۲) سختی و مشکلات برای تکامل روحی و معنوی و علمی انسان سودمند است.
- (۳) مشکلات برای بندگال خاص خدا، لطفی است که به صورت سختی جلوه می‌کند.
- (۴) سختی و مشکلات به عنوان عاملی برای صیقلی از خواب غفلت یاد می‌شود.

- ۳۶- آیات شریفه «لَمْ يَلِدْ وَلَمْ يُولَدْ» و «الْحَمْدُ لِلَّهِ رَبِّ الْعَالَمِينَ» به ترتیب، بیانگر کدام مرتبه از مراتب توحید است؟  
 (۱) عبادی - عبادی  
 (۲) ذاتی - ذاتی  
 (۳) ذاتی - ذاتی

- ۳۷- آیه شریفه «إِنَّ الْعِلَادَةَ ثَابِتٌ عَلَى الْمُؤْمِنِينَ كُنَاثًا يُؤْتُونَ» به کدام یک از اسرار نظام اشاره دارد؟  
 (۱) مایه در هرگز  
 (۲) مایه پاکیزگی  
 (۳) مایه نشاط و وقت شناسی  
 (۴) مایه شادابی و نشاط

- ۳۸- آیه شریفه «أَمْ نَجْعَلُ الَّذِينَ آمَنُوا وَعَمِلُوا الصَّالِحَاتِ كَالْمُفْسِدِينَ فِي الْأَرْضِ أَمْ نَجْعَلُ الْمُتَّقِينَ كَالْفُجَّارِ» به کدام موضوع معاد اشاره دارد؟  
 (۱) ضرورت معاد در پرتو عدل الهی  
 (۲) امکان معاد در پرتو عدل الهی  
 (۳) ضرورت معاد در پرتو حکمت الهی  
 (۴) امکان معاد در پرتو حکمت الهی

- ۳۹- چرا دور خیانت نباید دیگران را علامت کنند و تنها خودشان، شایسته علامت هستند؟  
 (۱) در دنیا به اندازه کافی به آنها ضرر حادم شده تا هر کس می خواهد به راه راست درآید  
 (۲) بهمنزلی برای آنان دلائل روشنی آورده تا عقابت شوند اما آنها این هدایت را نپذیرفتند  
 (۳) اگر به دنیا بازگردند همان راه گذشته را در پیش می گیرند و خودشان مقصود  
 (۴) شیطان فقط آنها را به گناه دعوت کرده و آنکه پذیرفته است، خودشان بودند

- ۴۰- در قرآن کریم، حضرت عیسی (ع) در حالی که هنوز در گهواره بود، از چه چیزی سخن گفت؟  
 (۱) پروردگار مرا برپادارنده سقراط قرار داده است  
 (۲) خدا مرا سفارش به نماز کرده است  
 (۳) سقراط یکموظیفه بوده و هدف ساختن کعبه، عیسی بوده است  
 (۴) خدا را پرستش کنند و عباد او بنمایند و برپا دارند

### دانش اجتماعی و حقوق اساسی

- ۴۱- در منابع فقهی اسلام، تأمین اجتماعی منکفی به کدام اصول است؟  
 (۱) تأمین نیازهای مادی - منتفع بودن از مزایای اقتصادی  
 (۲) تأمین نیازهای معنوی - رفاه همگنی  
 (۳) مسئولیت متقابل اعضای جامعه - منتفع بودن از دستاورد  
 (۴) مسئولیت متقابل جامعه و حاکمان - رفاه و تأمین سلامت

- ۴۲- حواجه نصرالدین طوسی، اساس تشکیل جوامع بشری را معنی بر کدام اصل می دانست؟  
 (۱) ثروت  
 (۲) قدرت  
 (۳) تعاون  
 (۴) استخدام

- ۴۳- کدام مورد، از راهکارهای کاهش نابرابری های اجتماعی نیست؟  
 (۱) پرداخت یارانه  
 (۲) چتر حمایتی بیمه های اجتماعی  
 (۳) حذف مالکیت خصوصی  
 (۴) دریافت مالیات

- ۴۴- کدام مورد، کوچک ترین واحد جمعیتی در جامعه آریایی بود؟  
 (۱) زینو  
 (۲) نمان (نمان)  
 (۳) دهبو  
 (۴) وین



۴۵- تعداد «تیره‌ها» در اجتماع و جمعیت، کدام مجموعه را می‌سازد؟

- (۱) ایل  
(۲) دودمان  
(۳) قوم  
(۴) طایفه

۴۶- در قانون اساسی، وظیفه دولت به تأمین زمینه‌های تحقق کدام یک از حقوق افراد با رعایت اولویت برای آنها که نیازمند ترتیب، مقید شده است؟

- (۱) برخورداری از مسکن مناسب یا نیاز  
(۲) ایجاد سیمه خاص بیمه‌ها و زمان سالجوده  
(۳) تأمین وسایل آموزش و پرورش رایگان  
(۴) برخورداری از تأمین اجتماعی

۴۷- در قانون اساسی، عبارت «انفال» اشاره به کدام یک از موارد زیر دارد؟

- (۱) اسلحه‌های جنگ  
(۲) مراکزهای ملی  
(۳) مالکیت مشروع  
(۴) مالکیت شخصی

۴۸- در مواردی که طرح یا لایحه‌ای فوری در دستور کار مجلس قرار گیرد، حضور و اظهار نظر کدام یک از اشخاص زیر، الزامی است؟

- (۱) حقوق‌دانان شورای نگهبان  
(۲) اعضای شورای نگهبان  
(۳) رئیس جمهور یا وزیر مربوط  
(۴) وزیر دادگستری یا معاون پارلمانی رئیس جمهور

۴۹- به ترتیب، تعداد نمایندگان و تعداد کمیسیون‌های داخلی مجلس، از کدام طریق تعیین می‌شوند؟

- (۱) قانون - مقننه عینت‌رئیس  
(۲) قانون اساسی - این نامه داخلی  
(۳) قانون - این نامه داخلی  
(۴) قانون اساسی - قانون

۵۰- در قانون اساسی، به ایجاد زمینه‌های مساعد برای احیای حقوق عادی و معنوی کدام یک از موارد زیر، به عنوان یکی از وظایف دولت اشاره شده است؟

- (۱) احزاب و تجمعات سیاسی  
(۲) زنان  
(۳) روستائیان و کارگران  
(۴) اقشارهای قومی و نژادی

### شناخت تأمین اجتماعی

۵۱- «مشاغل آزاد» و «کارگران مزدی»، به ترتیب، دارای کدام نوع بیمه تأمین اجتماعی هستند؟

- (۱) اجباری - اجباری  
(۲) اجباری - اختیاری  
(۳) اختیاری - اختیاری  
(۴) اجباری - اجباری

۵۲- چند نفر از اعضای هیئت امنای سازمان با پیشنهاد وزیر تعاون، کار و رفاه اجتماعی و با تصویب شورای عالی رفاه و تأمین اجتماعی انتخاب می‌شوند؟

- (۱) ۴  
(۲) ۳  
(۳) ۹  
(۴) ۶

۵۳- نصب و عزل هیئت نظارت و هیئت مدیره سازمان تأمین اجتماعی، به ترتیب، برعهده کدام مرجع است؟

- (۱) هیئت مدیره - هیئت نظارت  
(۲) هیئت امنای - هیئت امنای  
(۳) مدیرعامل - مدیرعامل  
(۴) هیئت مدیره - هیئت امنای

۵۴- تفریع بودجه سال قبل به همراه ارزیابی عملکرد سازمان، تا چه زمانی و باید توسط کدام مرجع به هیئت امنای ارائه شود؟

- (۱) اول خرداد - هیئت مدیره  
(۲) اول خرداد - مدیرعامل  
(۳) پایان خرداد - هیئت مدیره  
(۴) پایان خرداد - مدیرعامل

۵۵- تدوین برنامه عملیاتی با رعایت اصول بهر دوری جهت تحصیل اهداف راهبردی و خط مشی به صورت سالانه و پنج ساله، از وظایف کدام رکن سازمان تأمین اجتماعی است؟

- (۱) هیئت مدیره  
(۲) مدیر عامل  
(۳) هیئت امناء  
(۴) هیئت نظارت

۵۶- در سازمان تأمین اجتماعی، اعضای هیئت نظارت به ترتیب چند نفرند و برای چند سال انتخاب می شوند؟

- (۱) چهار - سه  
(۲) سه - چهار  
(۳) پنج - سه  
(۴) پنج - چهار

۵۷- اداره کل برنامه و بودجه، زیرمجموعه کدام یک از معاونت های سازمان تأمین اجتماعی است؟

- (۱) اقتصادی و سرمایه گذاری  
(۲) توسعه مدیریت و منابع انسانی  
(۳) بیمه ای  
(۴) برنامه ریزی، مالی و پشتیبانی

۵۸- اداره کل ارزیابی و تعالی خدمات بالینی، زیرمجموعه کدام معاونت سازمان تأمین اجتماعی است؟

- (۱) توسعه مدیریت و منابع انسانی  
(۲) فرهنگی، اجتماعی و امور اسان ها  
(۳) بیمه ای  
(۴) درمان

۵۹- «مزایای نقدی، غیر نقدی و عیدی مستمری بگیران» و «غرامت دستمزد ایام بیکاری»، به ترتیب، جزو کدام نوع تعهدات سازمان تأمین اجتماعی است؟

- (۱) بلندمدت - کوتاه مدت  
(۲) کوتاه مدت - کوتاه مدت  
(۳) کوتاه مدت - بلندمدت  
(۴) بلندمدت - بلندمدت

۶۰- صدور، تمدید، تجدید و تأمین اعتبار دفترچه های درمانی، از وظایف کدام واحد است؟

- (۱) امور بیمه شدگان  
(۲) اجرائیات  
(۳) نام نویسی و حساب های انفرادی  
(۴) مستمری ها

۶۱- ارائه کمک هایی از قبیل غرامت نقص عضو مقطوع و پروتز و ارتز به بیمه شدگان، جزو وظایف کدام واحد است؟

- (۱) مستمری ها  
(۲) امور بیمه شدگان  
(۳) امور اداری، پشتیبانی و رفاه  
(۴) نام نویسی و حساب های انفرادی

۶۲- فعالیتهای مربوط به کلینیک های طب کار و امور کمیسیون های پزشکی بدوی، به ترتیب، زیر نظر کدام بخش درمان هستند؟

- (۱) غیر مستقیم - مستقیم  
(۲) غیر مستقیم - غیر مستقیم  
(۳) مستقیم - غیر مستقیم  
(۴) مستقیم - مستقیم

۶۳- چهار بخش اصلی بیمارستان عمومی کدام اند؟

- (۱) ارتوپدی - اورولوژی - جراحی عمومی - قلب  
(۲) چشم - گوش و حلق و بینی - داخلی - اطفال  
(۳) داخلی - اطفال - زنان و زایمان - جراحی عمومی  
(۴) داخلی - اطفال - ارتوپدی - چشم

۶۴- اداره کل ارزیابی و پایش عملکرد، زیرمجموعه کدام معاونت سازمان تأمین اجتماعی است؟

- (۱) توسعه مدیریت و منابع انسانی  
(۲) درمان  
(۳) برنامه ریزی، مالی و پشتیبانی  
(۴) بیمه ای

۶۵- تعداد مستمری بگیران و بیمه شدگان اصلی سازمان تأمین اجتماعی، به ترتیب، چند میلیون نفرند؟

- (۱) ۳ و ۱۳  
(۲) ۱۵ و ۲  
(۳) ۳ و ۴۰  
(۴) ۱۳ و ۴۰



## اطلاعات عمومی:

- ۶۶- آبشار شاپان دشت در محاورت قلعه بهمن (فرشته)، از مناظر طبیعی کدام استان است؟  
 (۱) کردستان  
 (۲) مازندران  
 (۳) لرستان  
 (۴) گیلان
- ۶۷- قلعه بابک (جمهور)، از جاذبه‌های گردشگری کدام استان است؟  
 (۱) همدان  
 (۲) زنجان  
 (۳) کردستان  
 (۴) آذربایجان شرقی
- ۶۸- در دوره کدام نخست‌وزیر، لایحه قانونی بیمه‌های اجتماعی کارگران برای اولین بار به تصویب رسید؟  
 (۱) عبدالحسین هزبر  
 (۲) احمد قوام  
 (۳) محمد مصدق  
 (۴) احمد مشین دفتری
- ۶۹- پس از پیروزی انقلاب اسلامی، با تصویب کدام نهاد سازمان تأمین اجتماعی مجدداً احیا شد؟  
 (۱) شورای انقلاب  
 (۲) هیئت وزیران  
 (۳) وزارت بهداشتی  
 (۴) نهاد نخست‌وزیری
- ۷۰- کدام عملیات جنگ تحمیلی، منجر به تصرف جزیره محزون توسط نیروهای ایران شد؟  
 (۱) نصر  
 (۲) رمضان  
 (۳) خیبر  
 (۴) بدر
- ۷۱- از اقدامات رژیم پهلوی برای مقابله با اعتصاب کارکنان صنعت نفت در سال ۵۷ که با حمایت امام خمینی (ره) از این اعتصاب‌ها همراه بود، کدام مورد است؟  
 (۱) دعوت از مهندسين و کارگران خارجی  
 (۲) دعوت از دانشجویان و معماران ایرانی  
 (۳) اخراج گسترده کارکنان صنعت نفت  
 (۴) اخراج گسترده کارکنان صنعت نفت
- ۷۲- در کدام اثر ربر، طنز ظریف عمید زاکانی نسبت به فساد اشرافیان مغول، انعکاس یافته است؟  
 (۱) تجارب‌الامم  
 (۲) رساله دلگشا  
 (۳) اخلاق ناصری  
 (۴) اخلاق‌الاشرف
- ۷۳- کدام مورد به اختصار، انجمن بین‌المللی تأمین اجتماعی است؟  
 (۱) ایوا (IWA)  
 (۲) اسکایا (ITAIR)  
 (۳) ایسا (ISSA)  
 (۴) ایلو (ILO)
- ۷۴- کدام مورد، جزو شرکت، مؤسسه و نهاد تابعه سازمان تأمین اجتماعی است؟  
 (۱) شرکت سرمایه‌گذاری خلیفزاری ایران  
 (۲) نهاد کنشخانه‌های عمومی  
 (۳) صندوق کارآفرینی امید  
 (۴) بانک توسعه تعاون
- ۷۵- کدام کشور، میزبان مسابقات جهانی کارگری در سال ۲۰۱۹ بوده است؟  
 (۱) انگلستان  
 (۲) اسپانیا  
 (۳) آمریکا  
 (۴) ایتالیا

راهنامه‌ای در این بحث از آزمون، یک متن داده شده است. این متن را به دقت بخوانید و پاسخ سؤال‌هایی را که در زیر آن آمده است، با توجه به آنچه می‌توان از متن استنتاج یا استنباط کرد، انتخاب کنید و در پاسخنامه علامت بزنید.

**سیاست اجتماعی** گرچه از جنبه‌های مختلف با رفاه اجتماعی همسو است، به نوعی که گاه مترادف یکدیگر به کار می‌روند، اما از نظر نوع رویکرد به مسئله و نیز نحوه کارکرد، با رفاه اجتماعی مرزبندی دارد. سیاست اجتماعی از یک سو به منظور به تدبیر و اجرائت و به نوعی ابزار پیوند برنامه‌های مختلف اقتصادی، اجتماعی و سیاسی محسوب می‌شود و از سوی دیگر، به عنوان پوششی عام برای برنامه‌های مختلف دولت در عرصه‌های گوناگون به شمار می‌رود. عده‌ای آن را مداخله عامدانه‌ای می‌دانند که دولت برای تحمیل اهداف رفاهی یا توزیع مجدد منابع در میان شهروندان انجام می‌دهد. بنا بر این تعریف، سیاست اجتماعی از طریق مساوات و عدم تبعیض، حفاظت از افراد آسیب‌پذیر و برنامه‌ریزی مدبرانه زندگی پیگیری می‌شود.

با توجه به تعریف «مبجلی»، علم سیاست اجتماعی بر سه زمینه متمرکز است: الف) ساختار و ترکیب مفهوم رفاه، ب) توضیح خاستگاه و عملکرد مسائل در اجرای برنامه‌های رفاه اجتماعی و ج) شکل‌دهی و رده‌بندی نظریه‌ها. «توفی فستزتریک» نیز در کتاب *نظریه رفاه*، ضمن آنکه تأکید می‌کند که سیاست اجتماعی یک رشته علمی و دانشگاهی است، اما مرزبندی محسوسی نیز در حیطه کارکردی آن قائل است و معتقد است که تأکید آگاهانه بر تحول اجتماعی، مضمون اصلی سیاست اجتماعی را تشکیل می‌دهد و از سیاست اجتماعی به عنوان روندی نام می‌برد که از طریق آن، رفاه با بهزیستی جامعه به حداکثر می‌رسد، ضمن آنکه حیطه عملکردی آن را محدود به تولید و توزیع کالاهای عمومی می‌داند. از دید «فستزتریک»، سیاست اجتماعی به نوعی هم‌راد ایجاد حق رأی و نگاه به دموکراسی نیز به شمار می‌رود. وقتی مشارکت در تعیین قدرت به عنوان حق شهروندی تعریف شد و عموم جامعه حق اظهارنظر پیدا کردند، دولت‌ها نیز برای کسب رأی و جلب توجه آرای عمومی، سیاست اجتماعی را در کنار سیاست‌های دیگر اقتصادی، سیاسی و دفاعی قرار دادند و از این رو، روند دموکراسی آنان را بصورت به ارائه آن کرد.

هنگامی که در دهه ۱۹۷۰ میلادی، با افزایش نرخ بیکاری در سراسر اروپا، بعضی بیکاری و به تبع آن مسئله اشتغال به عنوان مشکلی اساسی تلقی شد، این مسئله موجب نگرانی سیاستمداران، اقتصاددانان و سایر بازیگران عرصه سیاست شد و نظام‌های رفاهی را به طور اخص و سیاست‌گذاری‌های اجتماعی آنان را به نحای مختلف تحت تأثیر قرار داد. اما هر کشور بر اساس رهیافت‌های مخصوص به خود و به نحو متفاوت از دیگران، به مقابله با این مسئله پرداخت. کشورهای نظیر ایتالیا، پرتغال، اسپانیا، یونان، موزامبیک محدودی در اختیار بیکاران قرار دادند. اما کشورهای مانند ایرلند، هلند، آلمان، دانمارک و سوئد سیاست‌های اشتغال محور گسترده اجرا کردند. مسئله اصلی این بود که هر رژیم رفاهی، بر اساس همان ویژگی‌های خود، سیاست خاصی را نیز در برخورد با بیکاری دنبال کرده است. یکی از دلایل این تفاوت آن بود که چون این رژیم‌های رفاهی با الگوهای زندگی خانوادگی و همبستگی خانوادگی در تعادل هستند یا تحت تأثیر الگوهای مختلف زندگی خانوادگی می‌باشند نمی‌توانستند از یک الگو پیروی کنند و شیوه‌های زندگی خانواده‌ها بر سیاست‌گذاری اجتماعی مؤثر بودند.

۷۶- مقصود اصلی متن، کدام است؟

- ۱) بررسی مفهومی معاصر در جایگاه تاریخی تکوین آن
- ۲) بررسی تأثیر تفاوت جوامع بر جهت‌گیری‌های اجتماعی
- ۳) تبیین یک پدیده اجتماعی
- ۴) مقایسه دو رهیافت متفاوت در رفاه اجتماعی

۷۷- کدام مورد، به بهترین وجه، نقش پاراگراف ۲ در ارتباط با موضوع اصلی پاراگراف ۱ را توصیف می‌کند؟

- ۱) با مقایسه دو نظریه مربوطه، اهمیت آن را برجسته می‌سازد.
- ۲) با ارائه دو مثال مشخص، جایگاه علمی خاصی به آن می‌بخشد.
- ۳) با استناد به منابع معتبر، آن را طبقه‌بندی می‌کند.
- ۴) آن را با توسل به برخی منابع مربوطه، تکمیل می‌کند.



۷۸- از نظر «فیتزجریک» کدام مورد، نظر دولت‌ها درباره شروع به اجرای سیاست اجتماعی را به بهترین وجه توصیف می‌کند؟

- ۱- بی‌طرفی کامل
- ۲- پذیرش ناخواسته
- ۳- سخت‌ولی نسبی
- ۴- تردید و تشکیک عمیق

۷۹- مضمون اصلی نویسنده از جمله زیر در پاراگراف ۳، کدام است؟

«کشورهایی نظیر ایتالیا، بریتانیا، یونان، فرانسه محدودی در اختیار بینکاران قرار دادند، اما کشورهایی مانند ایرلند، هلند، آلمان، دانمارک و سوئد سیاست‌های اشتغال‌محور گسترده اجرا کردند.»

- ۱- تأکید بر مصلی مشترک در کشورهای به ظاهر متفاوت
- ۲- تأکید بر تفاوت‌های متفاوت در برخورد با مسئله بیکاری و اشتغال
- ۳- تأکید بر نقش دولت در این پاراگراف
- ۴- تأکید بر اهمیت نوعی حرکت و اقدام اجتماعی

راهنمای برای پاسخگویی به سؤال‌های ۸۰ تا ۸۳، لازم است موقعیتی را که در هر سؤال مطرح شده، مورد توجه و تحلیل قرار دهید و سپس گزینه‌ای را که فکر می‌کنید پاسخ مناسب‌تری برای آن سؤال است، انتخاب کنید. هر سؤال را با دقت بخوانید و با توجه به واقعیت‌های مطرح‌شده در هر سؤال و تئوریک که بیان شده و بیان شده ولی قابل استنتاج است، پاسخی را که صحیح‌تر به نظر می‌رسد، انتخاب و در پاسخنامه علامت بزنید.

۸۰- ناصراً به این نتیجه رسیده‌ام که می‌توان استرس را با گوش دادن بهتر نیز کاهش داد. زمانی که می‌توان تمرکز خود در گوش دادن به دیگران را، به‌ویژه وقتی آنها از مشکلاتشان می‌گویند، بیشتر می‌کنم، ارتباطاتم نیز به همان اندازه غنی‌تر و بهتر می‌شوند. شما هم در تمام شرایط چنین کنید. فردی مقابل به خوبی میزان توجه می‌کند و تا حدی به‌طور ناخودآگاه روح می‌دهد. زمانی که احساس خوب گوش داده‌شدن به دیگران القا می‌شود، پیوستگی احساسی میان افراد نیز سریع‌تر شکل می‌گیرد.

۱- برخی روی‌شناسان بر این باورند که گوش کردن به مشکلات دیگران، به‌شکل پیشنهاد ناصراً در سؤال می‌باشد.

۲- اسرارها وقتی حاضر می‌شوند یا کسی مشکلات خود را در میان بگذارد که با وی تعلق و ناخودآگاه احساس راحتی و اعتماد دارند.

۳- روش‌های مختلفی برای ایجاد ارتباط با دیگران و تحقق بخشیدن به این ارتباطات وجود دارد.

۴- کسانی که حاضرند درباره مشکلات خود با دیگران حرف بزنند، عموماً افرادی بی‌رونگ‌تر هستند.

۸۱- وقتی کارهای زیادی برای انجام دادن دارید، این‌طور به نظر می‌رسد که بهترین گزینه، استفاده از روزهای تعطیل و آخر هفته‌هاست اما این کار، فکر خوبی نیست. این فراواند در نهایت به سلامت شما آسیب می‌رساند پس به خودتان هر چقدر به‌خوب می‌توانید استراحت کنید تا روز تعطیل متوالی داشته باشید، اما باید جسمتان طراوت می‌یابد. حتی اگر لازم است یک روز بیشتر از روزهای دیگر کار کنید، روزی که یک روز کامل کار کردن را کنار بگذارید. وقتی اول هفته به کار بروی می‌گردید، احساسی بهتری خواهید داشت و کدام مورد، فرض لازم برای پذیرش توصیه به عمل آمده در متن است؟


- ۱- بسیاری از کارکنان و مدیران می‌گویند که استفاده از روزهای تعطیل و آخر هفته را به کار در تعطیلات ترجیح می‌دهند.
- ۲- وقتی کسی بگوید یک روز مطلقاً کار نکند، ذهن شما نیز آلوده‌ایک درگیر کار نخواهد بود.
- ۳- وقتی افراد روزی ۲ روزهای از هفته را به کارهای شخصی خود اختصاص می‌دهند، به‌واقع باعث افزایش کارایی خود در طی زمان کاری می‌شوند.
- ۴- معطلی‌های طولانی‌مدت به این باورند که کار کردن نیز به همان اندازه استراحت و تفریح برای سلامت روح و جسم ضروری است.

سوال	پاسخ	سوال	پاسخ	سوال	پاسخ	سوال	پاسخ	سوال	پاسخ	سوال	پاسخ
۱	۲	۲۴	۲	۴۶	۳						
۲	۲	۲۵	۴	۴۷	۴						
۳	۱	۲۶	۱	۴۸	۲						
۴	۲	۲۷	۱	۴۹	۱						
۵	۴	۲۸	۲	۵۰	۳						
۶	۴	۲۹	۲	۵۱	۴						
۷	۱	۳۰	۲	۵۲	۴						
۸	۲	۳۱	۱	۵۳	۳						
۹	۳	۳۲	۴	۵۴	۱						
۱۰	۲	۳۳	۲	۵۵	۲						
۱۱	۳	۳۴	۳	۵۶	۱						
۱۲	۲	۳۵	۱	۵۷	۴						
۱۳	۱	۳۶	۲	۵۸	۲						
۱۴	۳	۳۷	۱	۵۹	۳						
۱۵	۱	۳۸	۴	۶۰	۲						
۱۶	۴	۳۹	۱	۶۱	۳						
۱۷	۳	۴۰	۳								
۱۸	۳	۴۱	۲								
۱۹	۴	۴۲	۴								
۲۰	۲	۴۳	۳								
۲۱	۳	۴۴	۱								
۲۲	۳	۴۵	۱								
۲۳	۱	۴۶	۳								

## ❖ فصل چهارم: سوالات تایپ شده آزمون استخدامی حیطه عمومی تامین

اجتماعی ۲۱ شهریور ۱۳۹۹ سری 200D

۱- در نرم افزار PowerPoint 2013، تنظیمات نشان داده شده در شکل زیر، مربوط به کدام ویژگی اسلاید است؟



Animation (۱)

Design (۲)

Layout (۳)

Transition (۴)

۲- در نرم افزار PowerPoint 2013، عمل Copy &amp; Paste یک اسلاید در همان فایل (بدون اینکه عمل دیگری بین آن ها انجام

شود)، معادل کدام مورد است؟

Merge (۲)

Duplicate (۱)

Create New (۴)

Move (۳)

۳- کدام یک از موارد زیر، بین دو جدول در نرم افزار Access 2013 برقرار می شود؟

Management (۲)

Class (۱)

Query (۴)

Relationship (۳)

۴- بیشترین موارد استفاده از سرویس RSS، در کدام یک از وب سایت های زیر است؟

سایت های خبری (۲)

سیستم های بانکداری (۱)

شبکه های اجتماعی (۴)

سیستم های آموزشی (۳)

## ◀ زبان انگلیسی - عمومی

Part A: Grammar and Vocabulary

Directions: Choose the word or phrase (1), (2), (3), or (4) that best completes each sentence. Then mark the correct choice on your answer sheet.

5- They live ..... far from city center that they have to take a bus to go shopping.

1) too

2) enough

3) very

4) so

6- We have considered your proposal thoroughly; ....., we are afraid to tell you that we cannot accept it.

- 1) however      2) furthermore      3) otherwise      4) despite

7- ..... one of the first countries to close its borders, Taiwan showed low numbers of Covid-19 deaths in March.

- 1) That is has been      2) Having been      3) It has been      4) To have been

8- Although the leading cause of death for men and women are ....., men exhibit higher death rates.

- 1) initial      2) inherent      3) identical      4) integral

9- We need to provide enough gas because it is vital to organizations ..... food among the poor.

- 1) sustaining      2) revealing      3) distributing      4) facilitating

#### Part B: Reading Comprehension

Directions: Read the following passage and select the choice (1), (2), (3), or (4) that best answers each question. Then mark the correct choice on your answer sheet.

Social workers are professionals who aim to enhance overall well-being and help meet basic and complex needs of communities and people. Social workers work with many different populations and types of people, particularly focusing on those who are vulnerable, oppressed, and living in poverty.

Depending on their specialty, job title and place of employment, a social worker may be required to participate in legislative processes that often result in the formation of social policies. They lean on social work values and principles, as well as academic research to carry out their work.

Social workers are educated and trained to address social injustices and barriers to their clients' overall wellbeing. Some of those include poverty, unemployment, and lack of housing. They also support clients and communities who are living with disabilities, substance abuse problems, or experience domestic conflicts.

Social workers often fine-tune their practice with a focus on a level of interventions and types of communities they wish to serve. A clinical social worker, for example, focuses on diagnoses, treatments and prevention of mental, emotional and behavioral issues.

10- Which of the following is the best title for the passage?

- 1) What Is a Social Worker?  
2) How Can One Become a Social Worker?

3) Why Do Social Workers Help People?

4) Where Do Social Workers Work?

11- The word "enhance" in paragraph 1 is closest in meaning to .....

- 1) regulate                      2) occupy                      3) support                      4) improve

12- Based on what factors is a social worker likely to be involved in the formation of social policies?

- 1) Specialty, degree, and job title  
2) Specialty, job title, and place of employment  
3) Expertise, education, and place of employment  
4) Expertise, experience, and job title.

13- The passage refers to all of the following social injustices EXCEPT .....

- 1) poverty                      2) unemployment                      3) lack of housing                      4) discrimination

14- The word "they" in paragraph 4 refers to .....

- 1) social workers                      2) types                      3) communities                      4) interventions

## زبان و ادبیات فارسی

۱۵- نگارش کدام جمله، «غلط» است؟

(۱) من به اندرز شما توجه و آن را به کار خواهم بست.

(۲) از خیرخواهی‌های شما نهایت امتنان را دارم.

(۳) با نهایت دقت به راهنمایی‌های شما گوش خواهم داد.

(۴) نصیحت شما را گوش کرده، مورد توجه قرار می‌دهم.

۱۶- توضیح مقابل همه نشانه‌ها درست است. به‌جز .....

(۱) میان دو جمله مستقل که پیوند معنایی دارند. (نقطه ویرگول ؛)

(۲) برای بیان استهزا و تمسخر (نشانه عاطفی !)

(۳) به‌جای واو عطف میان واژه‌های هم‌پایه (ویرگول ،)

(۴) اگر بخواهیم چیزی به اصل کلام بیفزاییم. (قلاب [ ])

۱۷- در عبارت زیر، به‌ترتیب کدام نشانه‌های نگارشی باید به‌کار برده شود؟

«مولوی می‌فرماید آدمی مخفی است در زیر زبان»

(۱) دو نقطه-گیومه-نقطه                      (۲) گیومه-نقطه-ویرگول

(۳) گیومه-نقطه-گیومه                      (۴) دونقطه-گیومه-ویرگول



## معارف اسلامی

۱۸- انسان در کدام صورت به بزرگ‌ترین سعادت نائل می‌شود؟

(۱) خداشناسی، شناخت پیامبران و سرکوبی غرایز نفسانی

(۲) خودشناسی، کشف فطرت و تعدیل امیال نفسانی

(۳) خداشناسی، کشف فطرت و سرکوبی غرایز نفسانی

(۴) خودشناسی، شناخت پیامبران و تعدیل امیال نفسانی

۱۹- از آیه‌ی شریفه‌ی « فَأَقِمَّ وَجْهَكَ لِلدِّينِ حَنِيفًا... » کدام مفهوم دریافت می‌شود؟

(۱) استوار بودن دین الهی (۲) فطری بودن خداپرستی

(۳) فطری بودن خداشناسی (۴) خالص بودن دین الهی

۲۰- آیه‌ی شریفه‌ی « لَوْ كَانَ فِيهِمَا آلِهَةٌ إِلَّا اللَّهُ لَفَسَدَتَا »، به کدام موضوع اشاره دارد؟

(۱) جهان مجموعه‌ای هماهنگ است که از سر حکمت علم و تدبیر آراسته شده است.

(۲) با پیشرفت علوم تجربی و کشفیات رموز عالم هستی، برهان نظم جلوه بیشتری پیدا کرده است.

(۳) پدیده‌های منظم و طراحی و برنامه‌ریزی شده دقیق، همواره به سوی غایتی در حرکت هستند.

(۴) هنگامی که به موجودات این عالم می‌نگریم، سازماندهی حساب شده را احساس می‌کنیم.

۲۱- کدام اراده الهی، از رابطه خاص خدا با مخلوقات سرچشمه می‌گیرد؟

(۱) تشریعی و چون خداوند امری را اراده کند، بالضرورة تحقق می‌یابد.

(۲) تشریعی و امکان تخلف اراده از مراد وجود دارد.

(۳) تکوینی و امکان تخلف اراده از مراد وجود دارد.

(۴) تکوینی و چون خداوند امری را اراده کند، بالضرورة تحقق می‌یابد.

۲۲- آیات شریفه‌ی « فَإِنَّ مَعَ الْعُسْرِ يُسْرًا، إِنَّ مَعَ الْعُسْرِ يُسْرًا »، به کدام راز و فواید شرور در جهام اشاره دارد؟

(۱) سختی و مشکلات برای تکامل روحی و معنوی و علمی انسان سودمند است.

(۲) مشکلات برای بندگان خاص خدا، لطفی است که به صورت سختی جلوه می‌کند.

(۳) سختی و مشکلات به عنوان عاملی برای بیداری از خواب غفلت یاد می‌شود.

(۴) خداوند بندگان را با مصیبت می‌آزماید تا مؤمنان بازشناخته شوند.

## دانش اجتماعی و حقوق اساسی

۲۳- تعدد «تیره‌ها» در اجتماع و جمعیت کدام مجموعه را می‌سازد؟

(۱) دودمان (۲) قوم (۳) طایفه (۴) ایل



۲۴- در قانون اساسی، وظیفه دولت به تأمین زمینه‌های تحقق کدام یک از حقوق افراد با رعایت اولویت برای آن‌ها که نیازمندترند، مقید شده است؟

- (۱) ایجاد بیمه خاص بیوه‌ها و زنان سالخورده (۲) تأمین وسایل آموزش و پرورش رایگان  
(۳) برخورداری از تأمین اجتماعی (۴) برخورداری از مسکن متناسب با نیاز

۲۵- در قانون اساسی، عبارت «انفال» اشاره به کدام یک از موارد زیر دارد؟

- (۱) درآمدهای ملی (۲) مالکیت مشروع (۳) مالکیت شخصی (۴) اموال مجهول‌المالک

۲۶- در مواردی که طرح با لایحه‌ای فوری در دستور کار مجلس قرار گیرد، حضور و اظهارنظر کدام یک از اشخاص زیر الزامی است؟

- (۱) اعضای شورای نگهبان (۲) رئیس جمهور یا وزیر مربوط  
(۳) وزیر دادگستری یا معاون پارلمانی رئیس جمهور (۴) حقوقدانان شورای نگهبان  
۲۷- به ترتیب، تعداد نمایندگان و تعداد کمیسیون‌های داخلی مجلس، از کدام طریق تعیین می‌شوند؟

- (۱) قانون اساسی - آیین‌نامه داخلی (۲) قانون - آیین‌نامه داخلی  
(۳) قانون اساسی - قانون (۴) قانون - مصوبه هیئت رئیسه

۲۸- در قانون اساسی، به ایجاد زمینه‌های مساعد برای احیای حقوق مادی و معنوی کدام یک از موارد زیر، به‌عنوان یکی از وظایف دولت اشاره شده است؟

- (۱) زنان (۲) روستائینان و کارگران  
(۳) اقلیت‌های قومی و نژادی (۴) احزاب و انجمن‌های سیاسی

## ◀ شناخت تأمین اجتماعی

۲۹- «مشاغل آزاد» و «کارگران مزدی»، به ترتیب دارای کدام نوع بیمه تأمین اجتماعی هستند؟

- (۱) اجباری-اختیاری (۲) اختیاری-اختیاری (۳) اجباری-اجباری (۴) اختیاری-اجباری

۳۰- چند نفر از اعضای هیئت امنای سازمان با پیشنهاد وزیر تعاون، کار و رفاه اجتماعی و با تصویب شورای عالی رفاه و تأمین اجتماعی انتخاب می‌شوند؟

- (۱) ۳ (۲) ۹ (۳) ۶ (۴) ۴

۳۱- نصب و عزل هیئت نظارت و هیئت مدیره سازمان تأمین اجتماعی، به‌ترتیب، برعهده کدام مرجع است؟

- (۱) هیئت امناء-هیئت امنا (۲) مدیر عامل-مدیر عامل  
(۳) هیئت مدیره-هیئت امنا (۴) هیئت مدیره-هیئت نظارت

۳۲- تفریغ بودجه سال قبل به همراه ارزیابی عملکرد سازمان، تا چه زمانی و باید توسط کدام مرجع به هیئت امنا ارائه شود؟

- (۱) اول خرداد-مدیر عامل (۲) پایان خرداد-هیئت مدیره

## اطلاعات عمومی

۳۳- آبشار شاهان دشت در مجاورت قلعه بهمن (فرشته)، از مناظر طبیعی کدام استان است؟

- (۱) لرستان (۲) مازندران (۳) گیلان (۴) کردستان

۳۴- قطعه بابک (جمهور)، از جاذبه‌های گردشگری کدام استان است؟

- (۱) زنجان (۲) کرمانشاه (۳) آذربایجان شرقی (۴) قزوین

۳۵- در دوره کدام نخست وزیر، لایحه قانونی بیمه‌های اجتماعی کارگران برای اولین بار به تصویب رسید؟

- (۱) محمد مصدق (۲) احمد قوام (۳) احمد متین دفتری (۴) عبدالحسین هژیر

۳۶- پس از پیروزی انقلاب اسلامی، با تصویب کدام نهاد، سازمان تأمین اجتماعی مجدداً احیا شد؟

- (۱) هیئت وزیران (۲) وزارت بهداری (۳) نهاد نخست وزیری (۴) شورای انقلاب

۳۷- کدام عملیات جنگ تحمیلی، منجر به تصرف جزیره مجنون توسط نیروهای ایران شد؟

- (۱) رمضان (۲) خیبر (۳) بدر (۴) نصر

۳۸- از اقدامات رژیم پهلوی برای مقابله با اعتصاب کارکنان صنعت نفت در سال ۵۷ که با حمایت امام خمینی (ره) از این

اعتصاب‌ها همراه بود، کدام مورد است؟

- (۱) دعوت از بازنشستگان و به‌کارگیری نظامیان

- (۲) اخراج رئیس وقت پالایشگاه آبادان

- (۳) اخراج گسترده کارکنان صنعت نفت

- (۴) دعوت از مهندسين و کارگران خارجی

۳۹- در کدام اثر زیر، طنز ظریف عبید زاکانی نسبت به فساد ایلخانیان مغول، انعکاس یافته است؟

- (۱) رساله دلگشا (۲) اخلاق ناصری (۳) اخلاق الاشراف (۴) تجارب‌الامم

۴۰- کدام مورد به اختصار، انجمن بین‌المللی تأمین اجتماعی است؟

- (۱) اصکابا (ITAIR) (۲) ایسا (ISSA) (۳) ایلو (ILO) (۴) ایوا (IWA)

۴۱- کدام مورد، جزو شرکت، مؤسسه و نهاد تابعه سازمان تأمین اجتماعی است؟

- (۱) نهاد کتابخانه‌های عمومی (۲) صندوق کارآفرینی امید

- (۳) بانک توسعه تعاون (۴) شرکت سرمایه‌گذاری خانه‌سازی ایران

۴۲- کدام کشور، میزبان مسابقات جهانی کارگری در سال ۲۰۱۹ بوده است؟

- (۱) اسپانیا (۲) آمریکا (۳) ایتالیا (۴) انگلستان

## هوش و توانمندی های عمومی


۴۳- نرخ بهره را می توان معادل نرخ تخفیف هم در نظر گرفت. فرض کنید نرخ بهره معین  $5/26$  درصد است و شما کالایی خریده اید که فروشنده راضی است در ازای آن کالا، شما یک سال بعد یک میلیون تومان بپردازد. اگر به جای یک سال بعد، امروز بخواهید این رقم را تسویه کنید، باید حدوداً به اندازه نرخ بهره  $5/26$  درصد تخفیف بگیرید؛ یعنی پولی که امروز باید بپردازید، ..... .

(۱) به نظرتان غیرمنطقی می آید. (۲) دیگر ارزش قبل را نخواهد داشت

(۳) حکم پس انداز را برای شما داشته است (۴) کمتر از یک میلیون خواهد بود

راهنمایی: هر کدام از سؤال های ۴۴ تا ۴۹ را به دقت بخوانید و جواب هر سؤال را در پاسخنامه علامت بزنید.

۴۴- در رشته اعداد زیر، از چپ به راست، ارتباط خاصی برقرار است. به جای علامت سؤال، کدام عدد باید قرار بگیرد؟



(۱) ۵

(۲) ۱۵

(۳) ۹

(۴) ۷

۴۵- شش سکه مطابق شکل زیر، روی یک میز چیده شده اند که برخی به «رو» و برخی به «پشت» قرار دارند. هر بار که به یک سکه دست بزنیم. باید تمام سکه هایی که در سمت چپ آن قرار دارند نیز برگردانده شوند. حداقل با چند بار تکرار این فرآیند، حالت قرار گرفتن تمام سکه ها می تواند مشابه شود (همگی به رو یا همگی به پشت)؟




(۱) ۶

(۲) ۴

(۳) ۳

(۴) ۵

۴۶- در شکل زیر، طول میله وسط ۵ متر و هر چه به سمت چپ و سمت راست برویم، ۱ متر طول میله ها کاهش می یابد تا آخرین میله ها که ۱ متری هستند. با چه ارتفاعی مطابق شکل، میله ها را برش دهیم تا مجموع طول تکه های بریده شده با مجموع طول تکه های باقی مانده، برابر شود؟



(۱)  $1/8$

(۲)  $1/2$

(۳)  $1/6$

(۴)  $1/5$

۴۷- ابتدا با حذف ۳ کلید از یک دسته کلید، تعداد کلیدهای دسته کلید، y درصد کاهش می یابد. سپس با اضافه کردن ۴ کلید به دسته کلید، تعداد کلیدها ۲y درصد افزایش می یابد. تعداد کلیدهای این دسته کلید، در ابتدا چند عدد بوده است؟

- (۱) ۱۶ (۲) ۸ (۳) ۹ (۴) ۱۲

۴۸- فردی از یک مفتول ۱/۲ متری، سه مفتول به نسبت طولهای ۲ به ۵ به ۶ برش داده و یک مفتول ۱۶ سانتی متری اضافه می آورد. اختلاف طول کوتاه ترین و بلندترین مفتول برش خورده، چند سانتی متر است؟

- (۱) ۳۲ (۲) ۱۶ (۳) ۱۸ (۴) ۲۴

۴۹- فردی برای مغازه خود، اقدام به خرید تخم مرغ رنگی کرده است. تخم مرغها در دو نوع بسته بندی ۶ تایی سفیدرنگ و ۹ تایی زردرنگ هستند. این فرد به ازای هر ۳ بسته ای که از یک نوع خریده، از نوع دیگر ۵ بسته می خرد. اگر اختلاف تخم مرغهای سفید و زرد ۹ عدد باشد، مجموع تعداد تخم مرغهای خریداری شده کدام است؟

- (۱) ۲۲۱ (۲) ۸۱ (۳) ۱۲۱ (۴) ۱۷۱

راهنمایی: با توجه به اطلاعات، جدول و نمودار زیر، به سؤالات ۵۰ و ۵۱ پاسخ دهید.

اطلاعات مربوط به تعداد بیمه شدگان (شاغلین و بازنشسته) ۴ شرکت «الف»، «ب»، «ج» و «د» در یک سال خاص، به صورت ناقص، در جدول آورده شده است و نمودار، سهم بازنشستگان هر شرکت را از مجموع بازنشستگان این ۴ شرکت در این سال نشان می دهد.

جدول «تعداد بیمه شدگان (شاغلین و بازنشسته) چهار شرکت در یک سال خاص»

شرکتها	تعداد بیمه شدگان	شاغلین مرد	شاغلین زن	بازنشسته ها	کل
«الف»			۳۸۰		۴۷۰
«ب»		۲۲۲	۹۰		۳۳۶
«ج»			۱۲۰		۲۴۶
«د»		۱۳۳			۴۷۱




۵۰- نسبت تعداد شاغلین بیمه شده مرد به زن، در شرکت «الف»، کدام است؟

- (۱) ۲ به ۵ (۲) ۱ به ۵ (۳) ۱ به ۴ (۴) ۲ به ۳

۵۱- اگر بازنشستگان شرکت «د» در این سال فقط زن باشند، تقریباً چند درصد از بیمه شدگان زن در این شرکت، بازنشسته نشده اند؟

- (۱) ۹۶/۶ (۲) ۹۱/۷ (۳) ۹۲/۳ (۴) ۹۴/۵

- ۷- در نرم افزار PowerPoint 2013، تنظیمات نشان داده شده در شکل زیر، مربوط به کدام ویژگی اسلاید است؟
- Animation (۱)  
Design (۲)  
Layout (۳)  
Transition (۴)



- ۸- در نرم افزار PowerPoint 2013، عمل Copy & Paste یک اسلاید در همان فایل (بدون اینکه عمل دیگری بین آنها انجام شود)، معادل کدام مورد است؟

Duplicate (۱)  
Merge (۲)  
Move (۳)  
Create New (۴)

- ۹- کدام یک از موارد زیر، بین دو جدول در نرم افزار Access 2013 برقرار می شود؟

Class (۱)  
Management (۲)  
Relationship (۳)  
Query (۴)

- ۱۰- بیشترین موارد استفاده از سرویس RSS، در کدام یک از وبسایت های زیر است؟

(۱) سیستم های بانکداری  
(۲) سایت های خبری  
(۳) سیستم های آموزشی  
(۴) شبکه های اجتماعی

زبان انگلیسی - عمومی:

#### Part A: Grammar and Vocabulary

Directions: Choose the word or phrase (1), (2), (3), or (4) that best completes each sentence. Then mark the correct choice on your answer sheet.

- 11- They live ..... far from the city center that they have to take a bus to go shopping.  
1) too  
2) enough  
3) very  
4) so
- 12- We have considered your proposal thoroughly; ....., we are afraid to tell you that we cannot accept it.  
1) however  
2) furthermore  
3) otherwise  
4) despite
- 13- ..... one of the first countries to close its borders, Taiwan showed low numbers of Covid-19 deaths in March.  
1) That it has been  
2) Having been  
3) It has been  
4) To have been
- 14- Although the leading causes of death for men and women are ....., men exhibit higher death rates.  
1) initial  
2) inherent  
3) identical  
4) integral
- 15- We need to provide enough gas because it is vital to organizations ..... food among the poor.  
1) sustaining  
2) revealing  
3) distributing  
4) facilitating



## Part B: Reading Comprehension

Directions: Read the following passage and select the choice (1), (2), (3), or (4) that best answers each question. Then mark the correct choice on your answer sheet.

Social workers are professionals who aim to enhance overall well-being and help meet basic and complex needs of communities and people. Social workers work with many different populations and types of people, particularly focusing on those who are vulnerable, oppressed, and living in poverty.

Depending on their specialty, job title and place of employment, a social worker may be required to participate in legislative processes that often result in the formation of social policies. They lean on social work values and principles, as well as academic research to carry out their work.

Social workers are educated and trained to address social injustices and barriers to their clients' overall wellbeing. Some of these include poverty, unemployment, and lack of housing. They also support clients and communities who are living with disabilities, substance abuse problems, or experience domestic conflicts.

Social workers often fine-tune their practice with a focus on a level of interventions and types of communities they wish to serve. A clinical social worker, for example, focuses on diagnoses, treatments and prevention of mental, emotional and behavioral issues.

- 16- Which of the following is the best title for the passage?
- 1) What Is a Social Worker?
  - 2) How Can One Become a Social Worker?
  - 3) Why Do Social Workers Help People?
  - 4) Where Do Social Workers Work?
- 17- The word "enhance" in paragraph 1 is closest in meaning to .....
- 1) regulate
  - 2) occupy
  - 3) support
  - 4) improve
- 18- Based on what factors is a social worker likely to be involved in the formation of social policies?
- 1) Specialty, degree, and job title
  - 2) Specialty, job title, and place of employment
  - 3) Expertise, education, and place of employment
  - 4) Expertise, experience, and job title
- 19- The passage refers to all of the following social injustices EXCEPT .....
- 1) poverty
  - 2) unemployment
  - 3) lack of housing
  - 4) discrimination
- 20- The word "they" in paragraph 4 refers to .....
- 1) social workers
  - 2) types
  - 3) communities
  - 4) interventions



۲۸- نگارش کدام جمله «حلقه» است؟

- ۱) من به شهر شما توجه و آن را به کار خواهم بست.
- ۲) از خبر خواهی های شما نهایت امتنان را دارم.
- ۳) با نهایت دقت به راهنمایی های شما گوش خواهم داد.
- ۴) نصیحت شما را گوش کرده بودم و توجه قرار می دهم.

۲۹- توضیح مقابل همه نشانه ها درست است به جز \_\_\_\_\_

- ۱) «من» در جمله مستقل که پیوند معنایی دارند (قطعه ویرگول)
- ۲) برای بیان استناده و تصریح (نشانه عاطفی)
- ۳) به جزای «و» عطف بیان و از معنای «و» به «و» (ویرگول)
- ۴) اگر دو کلمه چیزی به چیز کلام بگیریم (غلاب)

۳۰- در عبارت زیر به نام است کدام نشانه های نگارشی باید به کار برده شود؟

«معلمی می فرماید آدمی متغی است در زیر زبان»

- ۱) دو نقطه - گیومه - نقطه
- ۲) گیومه - نقطه - گیومه
- ۳) دو نقطه - گیومه - ویرگول
- ۴) گیومه - نقطه - ویرگول

بخش ادبی

۳۱- انسان در کدام صورت به بزرگ ترین سعادت نایل می شود؟

- ۱) خداشناسی، شناخت پستی و سرگیگی، غریب نفسی
- ۲) خودشناسی، کشف ضرورت و تعدیل اصل نفسی
- ۳) خداشناسی، کشف ضرورت و سرگیگی، غریب نفسی
- ۴) خودشناسی، شناخت پستی و تعدیل اصل نفسی

۳۲- از آیه شریفه «فَالْقَلَمُ وَجْهٌ لِلَّذِينَ أَحْسَنُوا» کدام مفهوم دریافت می شود؟

- ۱) استوار بودن دین الهی
- ۲) فطری بودن خداشناسی
- ۳) فطری بودن دین الهی
- ۴) خاص بودن دین الهی

۳۳- آیه شریفه «فَوَكَّاكَ بَيْهَتًا أَهْمًا لَا تِلْكَ فَتَسْتَدْرِكُ» به کدام موضوع اشاره دارد؟

- ۱) جهان مجموعه ای هفتاد است که از سر حکمت نظم و تدبیر آراسته شده است
- ۲) به مشورت علوم تجربی و انشعاب روح عالم هستی به عالم خلق جلوه بیشتری پیدا کرده است
- ۳) پدیده های منظم و نامنظم و برشمرده شده دقیق، همواره به سوی غایی در حرکت هستند
- ۴) هنگامی که به موجودات این عالم می نگریم سازماندهی حساب شده و احسان می بینیم

۳۴- کدام اراده الهی از رابطه خاص خدا با مخلوقات سرچشمه می گیرد؟

- ۱) تشریعی و چون خداوند امری را اراده کند با ضرورت تحقق می یابد
- ۲) تشریعی و امکان تحقق اراده از مراد وجود ندارد
- ۳) تکوینی و امکان تحقق اراده از مراد وجود ندارد
- ۴) تکوینی و چون خداوند امری را اراده کند با ضرورت تحقق می یابد

۳۵- آیات شریفه «فَالْقَلَمُ نَسْرًا» و «إِنَّ مَعَ الْعُسْرِ يُسْرًا» به کدام راز و فوائد ضروری در جهان اشاره دارد؟

- ۱) معنی و مشکلات برای تکمیل روحی و معنوی و علمی انسان مؤمنانه است
- ۲) مشکلات برای بندگان خاص خدا لطیف است که به صورت معنی جلوه می کند
- ۳) معنی و مشکلات به عنوان عاملی برای بیداری از خواب غفلت یاد می شود
- ۴) خداوند به دانش را به نصیحت می آید تا به انسان بازگردد

۴۵- تعداد «تیر ماه» در اجتماع و جمعیت کدام مجموعه را می سازد؟

(۲) قوم

(۱) دولت

(۴) ایل

(۳) عایقه

۴۶- در قانون اساسی، وظیفه دولت به تأمین زمینه های تحقق کدام یک از حقوق افراد با رعایت اولویت برای آنها

که نیازمند توجه و ملاحظه شده است؟

(۲) تأمین وسایل آموزش و پرورش رایگان

(۱) ایجاد بیمه خاصی بر رویه ها و زمان سالخورده

(۴) برخورداری از مسکن متناسب با نیاز

(۳) برخورداری از تأمین اجتماعی

۴۷- در قانون اساسی، عبارت «انفال» اشاره به کدام یک از موارد زیر دارد؟

(۲) مالکیت مشروع

(۱) در عده های ملی

(۴) اموال مجهول المالک

(۳) مالکیت شخصی

۴۸- در مواردی که طرح یا لایحه ای فوری در دستور کار مجلس قرار گیرد، حضور و اظهار نظر کدام یک از اشخاص

زیرمذکور است؟

(۲) رئیس جمهور یا وزیر مربوط

(۱) اعضای شورای نگهبان

(۴) حقوق دانان شورای نگهبان

(۳) وزیر دادگستری یا معاون پارلمانی رئیس جمهور

۴۹- به ترتیب تعداد نمایندگان و تعداد کمیسیون های داخلی مجلس، از کدام طریق تعیین می شوند؟

(۲) قانون - آیین نامه داخلی

(۱) قانون اساسی - آیین نامه داخلی

(۴) قانون - مصوبه هیئت رئیسه

(۳) قانون اساسی - قانون

۵۰- در قانون اساسی، به ایجاد زمینه های مساعد برای احیای حقوق مادی و معنوی کدام یک از موارد زیر،

به عنوان یکی از وظایف دولت اشاره شده است؟

(۲) روستائیان و کارگران

(۱) زنان

(۴) احزاب و انجمن های سیاسی

(۳) اقلیت های قومی و بومی

### شناخت تأمین اجتماعی:

۵۱- «مستأغل آزاد» و «کارگران مزدی» به ترتیب دارای کدام نوع بیمه تأمین اجتماعی هستند؟

(۲) اختیاری - اختیاری

(۱) اجباری - اختیاری

(۴) اختیاری - اجباری

(۳) اجباری - اجباری

۵۲- چند نفر از اعضای هیئت امنای سازمان با پیشنهاد وزیر تعاون، کار و رفاه اجتماعی و با تصویب شورای عالی

رفاه و تأمین اجتماعی انتخاب می شوند؟

(۲) ۹

(۱) ۳

(۴) ۴

(۳) ۶

۵۳- نصب و عزل هیئت نظارت و هیئت مدیره سازمان تأمین اجتماعی، به ترتیب، بر عهده کدام مرجع است؟

(۱) هیئت امنای - هیئت امنای

(۲) مدیر عامل - مدیر عامل

(۴) هیئت مدیره - هیئت نظارت

(۳) هیئت مدیره - هیئت امنای

۵۴- تفریغ بودجه سال قبل به همراه ارزیابی عملکرد سازمان، تا چه زمانی و باید توسط کدام مرجع به هیئت امنای

ارائه شود؟

(۱) اول خرداد - مدیر عامل

(۲) پایان خرداد - هیئت مدیره

(۳) پایان خرداد - مدیر عامل

(۴) اول خرداد - هیئت مدیره

- ۶۶- آبشار شاهان دشت در مجاورت قلعه بهمن (فرشته)، از مناظر طبیعی کدام استان است؟  
 (۱) لرستان  
 (۲) مازندران  
 (۳) گیلان  
 (۴) کردستان
- ۶۷- قلعه بانگ (چشور)، از جاذبه‌های گردشگری کدام استان است؟  
 (۱) زنجان  
 (۲) کرمانشاه  
 (۳) آذربایجان شرقی  
 (۴) قزوین
- ۶۸- در دوره کدام نخست‌وزیر، لایحه قانونی بیمه‌های اجتماعی کارگران برای اولین بار به تصویب رسید؟  
 (۱) محمد مصدق  
 (۲) احمد قوام  
 (۳) احمد عینی دهنوی  
 (۴) عبدالحسین مزبیر
- ۶۹- پس از پیروزی انقلاب اسلامی، با تصویب کدام نهاد، سازمان تأمین اجتماعی مجدداً احیا شد؟  
 (۱) هیئت وزیران  
 (۲) وزارت بهداشت  
 (۳) نهاد نخست‌وزیری  
 (۴) شورای انقلاب
- ۷۰- کدام عملیات جنگ تحمیلی، منجر به تصرف جزیره معنن توسط نیروهای ایران شد؟  
 (۱) رمضان  
 (۲) خسبر  
 (۳) بدر  
 (۴) نمبر
- ۷۱- از اقدامات رژیم پهلوی برای عفا و مغایره با انتصاب کارکنان صنعت نفت در سال ۵۴ که با حمایت اتمام خصی (ره) از این انتصاب‌ها همراه بود، کدام مورد است؟  
 (۱) دعوت از بازنشستگان و به‌کارگیری نظامیان  
 (۲) اخراج رئیسی وقت پالایشگاه آبادان  
 (۳) اخراج گسترده کارکنان صنعت نفت  
 (۴) دعوت از مهندسی و کارگران خارجی
- ۷۲- در کدام اثر زیر، طنز ظریف عبید زاکانی نسبت به فساد ایلخانیان معول، انعکاس یافته است؟  
 (۱) رساله دلگشا  
 (۲) اخلاق ناصری  
 (۳) اخلاق الانسانی  
 (۴) تجارب‌الامم
- ۷۳- کدام مورد به اختصار، انجمن بین‌المللی تأمین اجتماعی است؟  
 (۱) اسکایا (ITAIR)  
 (۲) ایسا (ISSA)  
 (۳) ایلو (ILO)  
 (۴) ایوا (IWA)
- ۷۴- کدام مورد، جزو شرکت، مؤسسه و نهاد تابعه سازمان تأمین اجتماعی است؟  
 (۱) نهاد کتابخانه‌های عمومی  
 (۲) صندوق کار آفرینی امید  
 (۳) بانک توسعه تعاون  
 (۴) شرکت سرمایه‌گذاری حکمت‌سازای ایران
- ۷۵- کدام کشور، میزبان مسابقات جهانی کارگری در سال ۲۰۱۹ بوده است؟  
 (۱) اسپانیا  
 (۲) آمریکا  
 (۳) ایتالیا  
 (۴) انگلستان



- ۸۲- نرخ بهره را می توان معادل نرخ تخفیف هم در نظر گرفت. فرض کنید نرخ بهره معین ۵/۲۶ درصد است و شما کالایی خریده اید که فروشنده راضی است در ازای آن کالا، شما یک سال بعد یک میلیون تومان بپردازید. اگر به جای یک سال بعد، امروز بخواهید این رقم را تسویه کنید، باید حدوداً به اندازه نرخ بهره ۵/۲۶ درصد تخفیف بگیرید؛ یعنی پولی که امروز باید بپردازید، .....  
 کدام مورد، به منطقی ترین وجه، جای خالی در متن را پر می کند؟  
 (۱) به نظر تان غیر منطقی می آید  
 (۲) دیگر ارزش قبل را نخواهد داشت  
 (۳) حکم پس انداز را برای شما داشته است  
 (۴) کمتر از یک میلیون خواهد بود

راهنمایی: هر کدام از سؤال های ۸۳ تا ۸۸ را به دقت بخوانید و جواب هر سؤال را در پاسخنامه علامت بزنید.

- ۸۳- در رشته اعداد زیر، از چپ به راست، ارتباط خاصی برقرار است. به جای علامت سؤال، کدام عدد باید قرار بگیرد؟

$32 \xrightarrow{10} 21 \xrightarrow{5} 13 \xrightarrow{3} 8 \xrightarrow{10} ?$

(۱) ۵

(۲) ۱۵

(۳) ۹

(۴) ۷

- ۸۴- شش سکه مطابق شکل زیر، روی یک میز چیده شده اند که برخی به «رو» و برخی به «پشت» قرار دارند. هر بار که به یک سکه دست بزنیم، باید تمام سکه هایی که در سمت چپ آن قرار دارند نیز برگردانده شوند. حداقل با چند بار تکرار این فرایند، حالت قرار گرفتن تمام سکه ها می تواند مشابه شود (همگی به رو یا همگی به پشت)؟



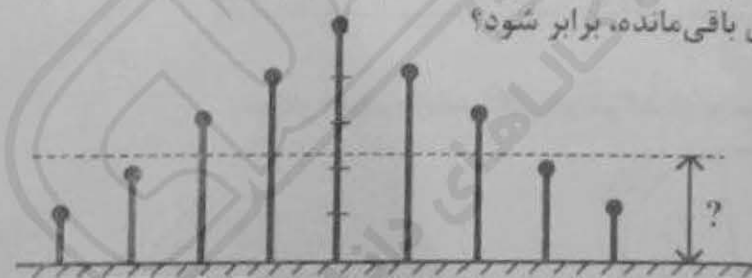
(۱) ۶

(۲) ۴

(۳) ۳

(۴) ۵

- ۸۵- در شکل زیر، طول میله وسط ۵ متر و هر چه به سمت چپ و سمت راست برویم، ۱ متر طول میله ها کاهش می یابد تا آخرین میله ها که ۱ متری هستند. با چه ارتفاعی مطابق شکل، میله ها را برش دهیم تا مجموع طول تکه های بریده شده با مجموع طول تکه های باقی مانده، برابر شود؟



(۱) ۱/۸

(۲) ۱/۲

(۳) ۱/۶

(۴) ۱/۵

- ۸۶- ابتدا با حذف ۳ کلید از یک دسته کلید، تعداد کلیدهای دسته کلید، ۷ درصد کاهش می یابد. سپس با اضافه کردن ۴ کلید به دسته کلید، تعداد کلیدها ۲۷ درصد افزایش می یابد. تعداد کلیدهای این دسته کلید، در ابتدا چند عدد بوده است؟

(۱) ۱۶

(۲) ۸

(۳) ۹

(۴) ۱۲

- ۹۰- اگر بازنشستگان شرکت «د» در این سال فقط زن باشند، تقریباً چند درصد از بیمه‌شدگان زن در این شرکت، بازنشسته نشده‌اند؟

(۱) ۹۶٫۶

(۲) ۹۱٫۷

(۳) ۹۲٫۳

(۴) ۹۴٫۵

ایران‌ارز  
IRANARZE.IR

فروشگاه کالاهای دانشجویی



۸۷- فردی از یک مفتول  $1\frac{1}{2}$  متری، سه مفتول به نسبت طول‌های ۲ به ۵ به ۶ برش داده و یک مفتول ۱۶ سانتی‌متری اضافه می‌آورد. اختلاف طول کوتاه‌ترین و بلندترین مفتول برش خورده، چند سانتی‌متر است؟

(۱) ۳۲

(۲) ۱۶

(۳) ۱۸

(۴) ۲۴

۸۸- فردی برای مغازه خود، اقدام به خرید تخم‌مرغ رنگی کرده است. تخم‌مرغ‌ها در دو نوع بسته‌بندی ۶ تایی سفیدرنگ و ۹ تایی زردرنگ هستند. این فرد به ازای هر ۳ بسته‌ای که از یک نوع خریده، از نوع دیگر ۵ بسته می‌خرد. اگر اختلاف تخم‌مرغ‌های سفید و زرد ۹ عدد باشد، مجموع تعداد تخم‌مرغ‌های خریداری شده کدام است؟

(۱) ۲۲۱

(۲) ۸۱

(۳) ۱۳۱

(۴) ۱۷۱

راهنمایی: با توجه به اطلاعات، جدول و نمودار زیر، به سؤالات ۸۹ و ۹۰ پاسخ دهید.

اطلاعات مربوط به تعداد بیمه‌شدگان (شاغلین و بازنشسته) ۴ شرکت «الف»، «ب»، «ج» و «د» در یک سال خاص، به صورت ناقص، در جدول آورده شده است و نمودار، سهم بازنشستگان هر شرکت را از مجموع بازنشستگان این ۴ شرکت در این سال نشان می‌دهد.

جدول «تعداد بیمه‌شدگان (شاغلین و بازنشسته) چهار شرکت در یک سال خاص»

شرکت‌ها	تعداد بیمه‌شدگان	شاغلین مرد	شاغلین زن	بازنشسته‌ها	کل
«الف»			۳۸۰		۴۷۶
«ب»		۲۲۲	۹۰		۳۳۶
«ج»			۱۴۰		۴۴۶
«د»		۱۳۳			۴۷۱

نمودار «سهم بازنشستگان هر شرکت از مجموع بازنشستگان ۴ شرکت در همان سال»



۸۹- نسبت تعداد شاغلین بیمه‌شده مرد به زن، در شرکت «الف»، کدام است؟

(۱) ۲ به ۵

(۲) ۱ به ۵

(۳) ۱ به ۴

(۴) ۲ به ۳

سوال	پاسخ	سوال	پاسخ	سوال	پاسخ	سوال	پاسخ	سوال	پاسخ	سوال	پاسخ
۱	۴	۲۴	۴	۴۶	۴						
۲	۱	۲۵	۴	۴۷	۳						
۳	۳	۲۶	۱	۴۸	۱						
۴	۲	۲۷	۱	۴۹	۴						
۵	۴	۲۸	۱	۵۰	۲						
۶	۱	۲۹	۴	۵۱	۳						
۷	۳	۳۰	۳								
۸	۳	۳۱	۱								
۹	۳	۳۲	۲								
۱۰	۱	۳۳	۲								
۱۱	۴	۳۴	۳								
۱۲	۲	۳۵	۱								
۱۳	۴	۳۶	۴								
۱۴	۱	۳۷	۲								
۱۵	۱	۳۸	۳								
۱۶	۲	۳۹	۳								
۱۷	۱	۴۰	۲								
۱۸	۲	۴۱	۴								
۱۹	۱	۴۲	۱								
۲۰	۴	۴۳	۱								
۲۱	۲	۴۴	۳								
۲۲	۴	۴۵	۲								
۲۳	۳	۴۶									